

Указание к учебной анкете: в поставленных вопросах с напечатанными ответами один или несколько ответов могут быть правильными. Правильные в каждом случае ответы следует отметить крестиком в отведённых для них соответствующих окнах. В вопросах, касающихся чисел или предельных значений, их следует поместить в предназначенные для этого окна.

RUSSISCH

Для заполнения заявителем

Фамилия:	Дата и год рождения:
Имя:	Дата ирождения экзамена:
Автошкола:	
Я заверяю, что на последующие вопросы отвечал сам и без применения вспомогательных средств.	
Подпись:	

Vom Fahrlehrer auszufüllen

Fehlerpunkte/5-Punkte-Regel

Klasse	A1	A	B	C1	C	CE	D1	D	M	L	T	S
Grundstoff												
Zusatzstoff												
Summe												
5-Punkte-Regel *												
bestanden												
nicht bestanden												
Bemerkungen:	geprüft von:											

* mehr als eine Frage mit Wertigkeit 5 falsch beantwortet

Перепечатка и размножение настоящей учебной анкеты или её частей запрещена и влечёт за собой судебную ответственность.

1. На что Вы должны рассчитывать ?

- На транспортное средство, которое после поворота медленно движется в Вашем направлении
- На быстродвижущееся встречное транспортное средство, которое на повороте слишком уклонило влево
- На диких животных за поворотом



1070

4

2. На что Вы должны рассчитывать ?

- Что другие могут несвоевременно заметить Ваше транспортное средство
- Что Вы сами поздно заметите движущиеся навстречу транспортные средства
- Что светофоры почти не отличаются от ярких световых реклам



1065

4

3. Что Вы должны учитывать ?

- Пешеходы – особенно дети – внезапно выходят между транспортными средствами
- Часто неосторожно открываются двери со стороны дороги
- Отъезжающее транспортное средство неожиданно выезжает на полосу движения



1026

3



4. Почему Вы должны быть здесь особенно осторожны ?

- Потому что при торможении существует повышенная опасность скольжения
- Потому что движущийся слева автомобиль имеет преимущество
- Потому что справа может появиться транспортное средство

1088

3

5. Что это может означать, если на транспортном средстве включен синий проблесковый маячок, но без sireны ?

- Предупреждается об опасности на месте дорожно-транспортного происшествия
- Предупреждается о месте вызова пожарной службы
- Отбуксирующее транспортное средство движется к месту вызова

1309

3

6. Какое поведение пожилых пешеходов можно зачастую наблюдать на пешеходных переходах ?

- Они не смотрят ни налево, ни направо
- Они вступают неожиданно на проезжую часть
- Они иногда в середине пути поворачивают назад

1024

4

7. Другие водители указывают Вам на постоянный сильный дым из Вашей выхлопной трубы. Что Вы должны сделать ?

- Немедленно отдать проверить двигатель
- Сразу сменить марку горючего
- Ничего, так как никто не подвергается опасности

1497

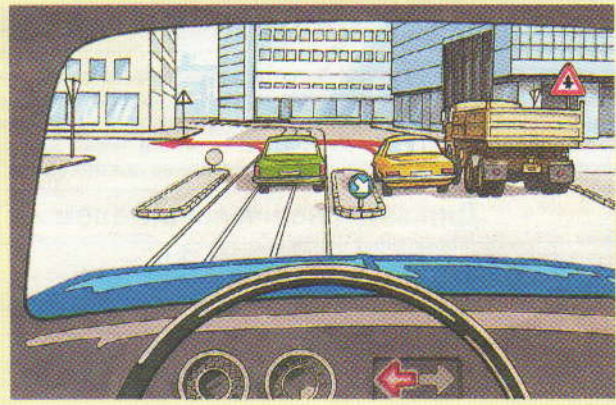
3

8. Какое транспортное средство должно ждать, если одна половина проезжей части закрыта из-за строительных работ ?

- Транспортное средство, на чьей стороне находится строительная площадка
- Транспортное средство на свободной половине проезжей части
- Всегда меньшее транспортное средство

1162

3



9. Все три транспортных средства хотят повернуть налево. Кто перестроился правильно ?

- Грузовик
- Желтый легковой автомобиль
- Зеленый легковой автомобиль

1181

3

10. На какие опасности Вы должны прежде всего рассчитывать в загородных местах ?

- На загрязнение проезжей части
- На медленно движущиеся сельскохозяйственные транспортные средства
- На сверхширокие сельскохозяйственные транспортные средства

1113

4

11. Какой считается разрешенная максимальная скорость в населенных пунктах ?

Ответ: км/ч

1142

3

12. В каких случаях Вы можете обгонять трамвай с левой стороны ?

- На улицах с односторонним движением
- Когда рельсы расположены слишком далеко вправо
- Когда проезжая часть (не улица с односторонним движением) закрыта справа от трамвая другими транспортными средствами

1158

3

13. Что следует понимать под неагрессивной ездой ?

- Не настаивать на своем праве
- Принимать во внимание ошибки других
- Предусмотрительно останавливаться на каждом перекрестке

1001

4

14. Как можете Вы, как водитель более медленного транспортного средства, дать возможность более быстрым транспортным средствам обогнать ?

- Путем предупреждения встречного транспорта световым сигналом
- Путем отклонения к обочине
- Путем выезда на стояночную полосу или на специальное место для остановки

1150

4


15. Перед Вами большой зерноуборочный комбайн хочет повернуть направо. Что правильно ?

Зерноуборочный комбайн

- при повороте отклонится далеко налево
- не может отклониться в сторону из-за рулевого управления задних колес
- перед поворотом движется очень медленно

1093

4



16. Какое действие является правильным ?

- Я могу проехать перед синим легковым автомобилем
- Я должен дать проехать мотоциклу
- Я должен дать проехать синему легковому автомобилю

1340

5



17. Вы хотите с этой полевой дороги свернуть налево. Кто должен ждать ?

- Я должен ждать
- Транспортное средство на дороге

1345

5

18. Вы нанесли повреждения поставленному на стоянку транспортному средству. Несмотря на соответствующее время ожидания, водитель поврежденного транспортного средства не появился. Что Вы должны предпринять ?

- Оставить на поврежденном транспортном средстве свою фамилию и адрес и незамедлительно сообщить в полицию об аварии
- Вы можете покинуть место происшествия
- Достаточно, если Вы дадите свою фамилию и свой адрес не причастному к происшествию свидетелю

1274

3



19. Вы приближаетесь к остановке, обозначенной таким образом. Как Вы поступите, если увидите там детей ?

- Уменьшение скорости необходимо только тогда, если там останавливается школьный автобус
- Не обязательно снижать скорость, если автобус останавливается на предназначенном для этого месте
- Снизить скорость и быть готовым затормозить

1399

5




20. На чем здесь нельзя передвигаться ?

- На маленьких мотоциклах
- На мопедах
- На легких мотоциклах

1403

2



21. Вы приближаетесь к этим транспортным средствам. Как Вы себя поведете ?

- Наблюдать, останется ли и дальше состав на боковой полосе
- Если состав мигает левым сигналом поворота, дать ему возможность выехать на проезжую часть
- Если состав мигает левым сигналом поворота, подать предупредительный световой сигнал и решительно проехать мимо

2070 3

22. Что Вы должны, как водитель автопоезда с прицепом с тормозом наката, проверить перед началом движения ?

- Действует ли тормоз наката
- Сцеплены ли рукава сжатого воздуха

2835 3

23. На каких дорогах действует рекомендуемая скорость 130 км/ч ?

- На автобанах
- На улицах вне населенных пунктов с конструктивно разделенными полосами движения в каждом направлении
- На улицах вне населенных пунктов по меньшей мере с двумя обозначенными полосами движения в каждом направлении

2126 3

24. Почему нельзя на длинном сильном уклоне двигаться с нажатым сцеплением ?

- Так как потом усилитель тормозного действия не может больше действовать
- Так как при этом тормозное действие может уменьшиться из-за перегрева
- Так как при этом происходит ненужный износ тормозов

2664 3

25. Какие опасные недостатки могут быть на прицепе с тормозом наката после длительной стоянки ?

- Под лучами солнца может сильно повыситься давление воздуха в шинах
- Нет тормозного действия из-за ржавчины
- Могут быть повреждены кабельные соединения

2687 4

26. Что может привести на мокрой проезжей части к аквапланингу (скольжение по воде) ?

- Высокая скорость
- Изношенные шины
- Продольные желобки на проезжей части

2022 5

27. Как Вы должны поступить, если в дальнем свете фар неожиданно появятся дикие животные ?

- Сразу переключить дальний свет на ближний
- Подать звуковой сигнал и затормозить
- Ничего не меняя, продолжать движение с дальним светом

2044 3

28. Что изменится, если вести за легковым автомобилем двухосный прицеп ?

- Стабильность движения увеличивается
- При заворачивании и в поворотах потребуется больше места
- Способность ускорения уменьшается

2666 4

29. На что указывает шестигранная плакетка на переднем номерном знаке ?

- На срок
- очередной проверки выхлопных газов
 - очередного основного технического осмотра
 - уплаты налога на транспортное средство

2478 2

30. Как Вы можете узнать во время движения, включен ли дальний свет ?

- По синей контрольной лампочке
- По красной контрольной лампочке
- По зеленой контрольной лампочке

2239 3