

Указание к учебной анкете: в поставленных вопросах с напечатанными ответами один или несколько ответов могут быть правильными. Правильные в каждом случае ответы следует отметить крестиком в отведённых для них соответствующих окнах. В вопросах, касающихся чисел или предельных значений, их следует поместить в предназначенные для этого окна.

RUSSISCH

**Для заполнения заявителем**

Фамилия:	Дата и год рождения:
Имя:	Дата и проведение экзамена:
Автошкола:	
Я заверяю, что на последующие вопросы отвечал сам и без применения вспомогательных средств.	
Подпись:	

**Vom Fahrlehrer auszufüllen**

Klasse	Fehlerpunkte/5-Punkte-Regel											
	A1	A	B	C1	C	CE	D1	D	M	L	T	S
Grundstoff												
Zusatzstoff												
Summe												
5-Punkte-Regel *												
bestanden												
nicht bestanden												
Bemerkungen:							geprüft von:					

\* mehr als eine Frage mit Wertigkeit 5 falsch beantwortet

Перепечатка и размножение настоящей учебной анкеты или её частей запрещена и влечёт за собой судебную ответственность.

**1. Что Вы должны принимать во внимание ?**

- Пешеходы часто переходят с одной стороны улицы на другую
- Вставшие на стоянку транспортные средства ухудшают видимость
- Иногда пешеходы неосмотрительно вступают на проезжую часть



1025 4

**2. Что Вы должны иметь в виду ?**

- Неровную и загрязненную проезжую часть
- Дорожных рабочих и строительное оборудование на проезжей части
- Полиция регулирует движение транспорта



1102 3

**3. На что Вы должны рассчитывать ?**

- На транспортное средство, которое после поворота медленно движется в Вашем направлении
- На быстродвижущееся встречное транспортное средство, которое на повороте слишком уклонилось влево
- На диких животных за поворотом



1070 4





4. Почему здесь необходима большая дистанция к впереди движущемуся ?

- Потому что разбрызгиваемая вода ухудшает видимость
- Потому что остановочный путь становится длиннее, чем на сухой улице
- Потому что иначе Вы слишком поздно сможете реагировать на лужи

1051

4



9. Что следует учитывать ?

- Нельзя останавливаться слева от ограничения проезжей части
- Полоса, указывающая ограничение проезжей части, ни в коем случае не должна пересекаться
- Медленные транспортные средства и велосипедисты должны двигаться по возможности по обочине дороги

1203

3

5. Вы хотите выехать со двора или с земельного участка и повернуть на улице направо. Слева приближается велосипедист. Кто должен ждать ?

- Велосипедист должен ждать
- Оба должны остановиться и договориться
- Вы должны ждать

1188

4

10. Где запрещена остановка ?

- На проезжей части, если с правой стороны имеется подходящая обочина
- На маркированных полосах движения проезжей части со стрелками-указателями направления
- На стоянках такси

1205

3

6. В городском движении во время часов „пик“ Ваше транспортное средство расходует больше горючего, чем в другое время дня. Почему ?

- Потому что необходимо чаще тормозить и ускоряться
- Потому что в основном приходится ездить на высоких передачах

1507

3

11. Как Вы распознаете кратчайший путь до следующего устройства экстренной связи на автобане ?

- По дорожному знаку „съезд“
- По направлению стрелки на придорожном столбике

1282

3

7. Что может означать сам по себе синий проблесковый маячок (без sireны) ?

- Транспортное средство находится в оперативной поездке. Вам предлагается ему освободить место
- Без sireны синий проблесковый маячок не имеет никакого значения
- Оповещение о сгруппированной колонне

1310

3

12. Где Вам следует особенно принимать в расчет сильное загрязнение проезжей части и опасность скольжения ?

- У строительных площадок
- В местах примыкания полевых дорог
- У перекрестков внутри городов

1045

3

8. Что представляют собой в движущемся транспортном потоке помехи, которые можно устранить ?

- Заглохший двигатель
- Медленное движение без уважительной причины
- Вынужденная остановка из-за отсутствия горючего

1004

3

13. Почему нельзя без уважительной причины двигаться особенно медленно ?

- Потому что возникает помеха потоку транспорта
- Потому что повышается опасность наездов
- Потому что следующие сзади провоцируются к опасным маневрам обгона

1005

3



14. Какие неисправности на транспортном средстве могут привести к угрозе безопасности в дорожном движении ?

- Изношенные шины
- Поломанные задние габаритные фары
- Недостаточное тормозное действие

1258


4

15. В каких случаях необходимо прервать обгон ?

- Когда обгоняемый сильно уменьшает скорость
- Когда обгоняемый вдруг ускоряет движение
- Когда возникает опасность из-за неожиданного встречного движения

1077

5




16. Какое действие является правильным ?

Я могу

- повернуть только после мотоцикла
- повернуть перед желтым легковым автомобилем
- повернуть первым

1331

5



17. Какое действие является правильным ?

- Мопед должен ждать
- Я должен ждать

1346

5

18. Почему может быть опасен обгон даже на просматриваемой прямой дороге ?

Так как скорость движущегося навстречу транспортного средства часто

- оценивается слишком высоко
- оценивается слишком низко

1074

5




19. Как Вы должны поступить, приближаясь к этому дорожному знаку ?

- Увеличить скорость
- Уменьшить скорость
- С помощью быстрых поворачивающих движений объезжать неровности

1368

2



20. В каком случае Вы должны ждать перед этим дорожным знаком ?

- Когда железнодорожный служащий машет бело-красно-белым флажком
- Когда Вы не можете пересечь переезд, не остановившись на нем
- Когда приближается рельсовое транспортное средство

1392

3





21. Почему обгон здесь может быть опасен ?

- Так как на полосе обгона еще лежит снежная грязь
- Так как разбрызгиваемая снежная грязь может ухудшить видимость
- Так как улица под снежной грязью может быть еще и обледенелой

2024 4

22. Какая максимальная скорость должна быть занесена в документы транспортного средства, чтобы разрешалось пользование автобаном ?

Ответ: Более  км/ч

2261 3

23. Как необходимо обозначить груз в темное время суток или при плохой видимости, если он выступает больше, чем на 40 см за ограничительные огни транспортного средства ?

- Вперед белым светом
- Назад красным светом
- Включением аварийной световой сигнализации

2306 3

24. При движении ночью на легковом автомобиле по дороге в ближайшую дискотеку группа молодых пассажиров и пассажиров хочет поднять настроение во время движения. Они весело поют, смеются, а также громко включено радио. Как должен в этой ситуации вести себя водитель легкового автомобиля ?

- Отвечающий за безопасность водитель должен в этом случае отделиться от группы и распорядиться его не отвлекать
- Участвовать в развлечениях, чтобы не прослыть некомпанейским человеком
- Поднимать и дальше настроение в группе путем рискованных маневров движения

2110 4

25. Когда следует заменять тормозные колодки ?

- Когда они замаслились
- Когда они намокли
- Когда они на пределе износа

2760 3

26. Жилой прицеп, оборудованный тормозом наката прицепа, поставлен на уклоне. Как его необходимо обезопасить от самопроизвольного скатывания ?

- Затянуть стояночный тормоз
- Расположить под колесами подкладные клины
- Затянуть тормоз на опорном колесе

2369 3

27. Что Вы должны знать о катализаторе ?

- Несгоревшее топливо в катализаторе при запуске двигателя не может принести вреда
- При буксировке до тех пор, пока не заведется двигатель транспортного средства может произойти поломка или повреждение катализатора
- При запуске двигателя после многих неудачных попыток старта можно повредить катализатор

2452 3

28. На что необходимо обратить внимание на транспортном средстве с брезентом ?

- Брезент не должен закрывать водителю видимость назад через внешние зеркала
- Транспортные средства с брезентом не нуждаются в особенном закреплении груза
- Незагруженные прицепы с высокими бортами, покрытыми брезентом, особенно чувствительны к боковому ветру

2368 3

29. Перед Вами на шоссе движется легковой автомобиль немного медленнее, чем разрешается. Вас раздражает помеха, созданная более медленным легковым автомобилем. Что Вы сделаете ?

- Я покажу свое раздражение путем близкого приближения
- Я сдержусь, наберусь терпения и соразмерю свою скорость со скоростью впереди движущегося
- Я попытаюсь призвать водителя легкового автомобиля к увеличению скорости тем, что подам предупредительные световой и звуковой сигналы

2105 4

30. Что облегчает движение в транспортной колонне ?

- Наблюдение за колонной через стекло движущегося впереди
- Слегка смещенное движение на собственной полосе движения
- Движение с постоянно включенным аварийным мигающим светом

2072 3