

Указание к учебной анкете: в поставленных вопросах с напечатанными ответами один или несколько ответов могут быть правильными. Правильные в каждом случае ответы следует отметить крестиком в отведённых для них соответствующих окнах. В вопросах, касающихся чисел или предельных значений, их следует поместить в предназначенные для этого окна.

RUSSISCH

**Для заполнения заявителем**

Фамилия: \_\_\_\_\_ Дата и год рождения: \_\_\_\_\_

Имя: \_\_\_\_\_ Дата ирождения экзамена: \_\_\_\_\_

Автошкола: \_\_\_\_\_

Я заверяю, что на последующие вопросы отвечал сам и без применения вспомогательных средств.

Подпись: \_\_\_\_\_

**Vom Fahrlehrer auszufüllen**

Klasse	Fehlerpunkte/5-Punkte-Regel											
	A1	A	B	C1	C	CE	D1	D	M	L	T	S
Grundstoff												
Zusatzstoff												
Summe												
5-Punkte-Regel *												
bestanden												
nicht bestanden												
Bemerkungen:							geprüft von:					

\* mehr als eine Frage mit Wertigkeit 5 falsch beantwortet

Перепечатка и размножение настоящей учебной анкеты или её частей запрещена и влечёт за собой судебную ответственность.

**1. Впереди мотоцикла легковой автомобиль хочет выехать на проезжую часть задним ходом. На что Вы должны рассчитывать ?**

- Что тормозные огни стоп-сигнала могут погаснуть и легковой автомобиль может дальше двигаться назад
- Что водитель мотоцикла может внезапно затормозить
- Что Ваш тормозной путь может стать длиннее обычного



1103

3

**2. Что Вы должны учитывать ?**

- Пешеходы перед Вами могут вступить на проезжую часть
- Внезапно между поставленными на стоянку транспортными средствами могут выбежать дети
- Пешеходы в любом случае ждут, пока Вы не проехали



1029

4

**3. На что Вы должны рассчитывать ?**

- Водитель мопеда может взять левее, чтобы обогнать велосипедиста
- Водитель автомобиля-фургона может при загрузке еще дальше выйти на проезжую часть
- На пешеходов, которые переходят проезжую часть перед автомобилем-фургонном



1099

4



(Аварийная сигнализация выключена)

**4. Что правильно в данной ситуации ?**

- Встречные легковые автомобили могут проезжать мимо автобуса только осторожно
- Вы можете проезжать мимо автобуса только осторожно
- Как встречное транспортное средство Вы можете не обращать особого внимания на автобус

1043 4

**5. Вы едете со скоростью 30 км/ч. При этом тормозной путь при нормальном торможении составляет 9 метров по эмпирической формуле. Какой длины будет тормозной путь при 60 км/ч в одинаковых условиях?**

- 27 м
- 36 м
- 18 м

1147 4

**6. Где запрещена остановка ?**

- На полосах ускорения и замедления
- Перед въездами и выездами со дворов или с земельных участков
- На маркированных полосах движения проезжей части со стрелками-указателями направления

1204 3

**7. При каких условиях ведение водителем телефонного разговора при езде запрещено ?**

- Если необходимо брать рукой трубку автомобильного телефона или брать в руки мобильный телефон
- Если мобильный телефон или трубку автомобильного телефона необходимо держать в руке
- Если не может обеспечиваться безопасное ведение транспортного средства

1260 3

**8. Из Вашего транспортного средства вытекает немного масла. Какое количество питьевой воды может привести в негодность уже одна такая капля ?**

- До 600-т литров
- 50-ти литров
- 1-го литра

1494 4



**9. Кто неправильно остановился ?**

- Светлый легковой автомобиль
- Оба легковых автомобиля
- Темный легковой автомобиль

1218 3

**10. Что Вы должны сделать, если Вы в дороге установите, что Ваше транспортное средство не соответствует безопасности движения ?**

- Транспортное средство самой короткой дорогой вывести из транспортного движения
- Продолжать движение до ближайшей автомобильной мастерской
- Продолжать движение только после устранения неисправностей

1257 3

**11. Что Вы должны принимать во внимание, когда пожилые люди переходят проезжую часть ?**

- Они не всегда обращают внимание на движение транспорта
- Иногда они внезапно останавливаются на проезжей части
- Они иногда в середине пути поворачивают назад

1022 4

**12. Вы должны ждать в транспортном заторе; перед Вами находится пешеходный переход. Как Вы поступите ?**

- Присоединиться и ждать на переходе, если не видно пешеходов
- Присоединиться и ждать на переходе, чтобы укоротить затор
- Переход оставить свободным

1270 4

**13. Приближается транспортное средство с синим проблесковым маячком и включенной сиреной. Как Вы поступите ?**

- Освободить дорогу этому транспортному средству
- Если необходимо, осторожно заехать на тротуар
- В любом случае резко затормозить и остановиться

1306 4

14. Что необходимо учитывать при перевозке груза?

- Груз не должен мешать водителю
- Недопустимо превышать максимальные значения размеров и веса
- На высоте, большей 2,50 м, груз может выступать вперед за контур транспортного средства не более чем на 50 см

1252

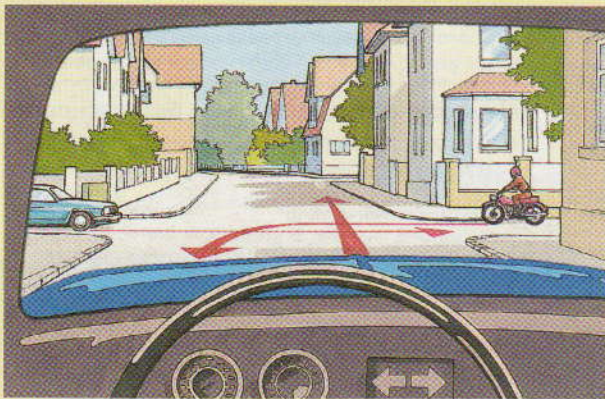
3

15. О чем может предупреждать желтый мигающий свет на транспортном средстве?

- Об опасностях на местах проведения работ или дорожно-транспортном происшествии
- О транспортном средстве необычной ширины
- О медленно движущемся транспортном средстве больших габаритов

1308

3




16. Какое действие является правильным?

- Я должен пропустить мотоцикл
- Я могу проехать перед синим легковым автомобилем
- Я могу проехать перед мотоциклом

1348

5



17. Какое действие является правильным?

- Я должен дать проехать велосипедисту
- Я могу повернуть перед велосипедистом
- Я должен дать проехать мотоциклисту

1317

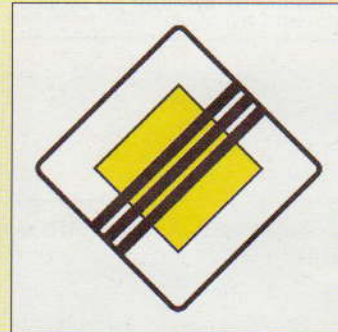
5

18. Что может быть причиной наездов?

- Неожиданно резкое торможение
- Невнимательность
- Слишком малая дистанция по отношению к движущемуся впереди

1002

4



19. Что здесь заканчивается?

- Запрет остановки в зоне
- Главная улица
- Предыдущие запреты на этом участке

1465

3



20. Как Вы поступите при виде этого дорожного знака?

- Пронаблюдать, возможно ли движение по мосту
- Остановиться, если мост поднят
- Продолжать движение, если не приближается поезд

1379

2



21. На что указывает число „26“ на этом дорожном знаке ?

- На автобан А 26
- На выезд номер 26 автобана
- На расстояние от выезда до Дюссельдорф-Бенрат

2435 2

22. Стоп-сигналы не работают. Что может быть причиной?

- Неисправен переключатель стоп-сигналов
- Слишком мал ход педали тормоза
- Лампы накаливания неисправны

2784 4

23. К чему может привести неожиданное ухудшение состояния проезжей части ?

- К опасности заноса и скольжения
- К изменившимся шумам шин
- К более длинному пути реагирования

2032 3

24. Как можно предупредить открытие задней двери ребенком во время движения?

- Привести в действие блокировку от открытия задних дверей детьми
- Надежно закрыть двери

2293 4

25. Ваше транспортное средство не имеет на задних сиденьях подголовников. Что может произойти, если Вы возьмете пассажиров на эти места?

- Повышенной опасности травмы не имеется
- При столкновении с едущим сзади автомобилем увеличивается опасность травмы этих лиц

2290 4

26. Что Вам разрешается изменить на государственном номерном знаке ?

- Наклеивание пленки для защиты шрифта
- Не разрешается ничего менять
- Расположить цветные наклейки

2366 2

27. Чем может создаваться угроза безопасности ?

- Слишком большим расстоянием к впереди движущемуся транспорту
- Срезанием поворотов
- Слишком поздним переключением дальнего света на ближний

2004 4

28. С какой максимальной скоростью разрешается передвигаться транспортному средству со снежными цепями ?

Ответ:  км/ч

2139 3

29. Во время движения Вы замечаете, что Ваш легковой автомобиль постоянно тянет налево. Какие возможны причины ?

- Слишком мало воздуха в левом переднем колесе
- Неправильное регулирование колес на передней оси (колея, боковой наклон)
- Сильно изношена левая задняя шина

2676 3

30. Что увеличивает опасность выброса из поворота при быстрой езде ?

- Торможение
- Выключение сцепления
- Ускорение

2660 3