

Указание к учебной анкете: в поставленных вопросах с напечатанными ответами один или несколько ответов могут быть правильными. Правильные в каждом случае ответы следует отметить крестиком в отведённых для них соответствующих окнах. В вопросах, касающихся чисел или предельных значений, их следует поместить в предназначенные для этого окна.

RUSSISCH

Для заполнения заявителем

Фамилия:	Дата и год рождения:
Имя:	Дата и проведение экзамена:
Автошкола:	
Я заверяю, что на последующие вопросы отвечал сам и без применения вспомогательных средств.	
Подпись:	

Vom Fahrlehrer auszufüllen

Klasse	Fehlerpunkte/5-Punkte-Regel											
	A1	A	B	C1	C	CE	D1	D	M	L	T	S
Grundstoff												
Zusatzstoff												
Summe												
5-Punkte-Regel *												
bestanden												
nicht bestanden												
Bemerkungen:							geprüft von:					

* mehr als eine Frage mit Wertigkeit 5 falsch beantwortet

Перепечатка и размножение настоящей учебной анкеты или её частей запрещена и влечёт за собой судебную ответственность.

1. Как Вы должны поступить ?

За детьми

- внимательно наблюдать и осторожно продолжать движение
- не надо наблюдать, так как они находятся на тротуаре



1015

4

2. Почему Вы должны на этом участке двигаться особенно осторожно ?

- Так как проезжая часть является скользкой
- Так как обзору мешает поворот
- Так как проезжая часть сужена неправильно поставленным на стоянку легковым автомобилем



1056

3

3. Что Вы должны иметь в виду ?

- Что справа может появиться транспортное средство
- Что из-за влажности и листвы тормозной путь становится длиннее
- Что движущееся справа транспортное средство не будет настаивать на своем праве преимущественного проезда



1087

3



4. На что Вы должны рассчитывать ?

- На легковой автомобиль, едущий перед автобусом
- Только на автобус, выезжающий справа

1085 3

5. Когда, самое раннее, в центральном дорожном реестре погашаются занесенные нарушения правил дорожного движения ?

- Через один год
- Через два года
- Через пять лет

1516 3

6. В каком диапазоне чисел оборотов двигателя потребление горючего оптимальней ?

- В нижнем
- В верхнем

1501 3

7. Чем может быть вызвана угроза безопасности ?

- Необычной окраской транспортного средства
- Изношенными шинами
- Слишком высоко отрегулированными фарами

1006 4

8. Вы первым достигли места аварии с пострадавшими. Что Вы должны сделать, как правило, в первую очередь ?

- Обезопасить место происшествия
- Ехать до ближайшего телефона-автомата и вызвать спасательную службу
- Проверить, как тяжело ранены пострадавшие

1278 4



9. Вы хотите выехать со двора или с земельного участка. Кто должен ждать ?

- Пешеходы должны ждать
- Вы должны ждать

1194 4

10. Чем должен быть обозначен груз, выступающий более, чем на 1 м за светоотражатели транспортного средства в темное время суток ?

- Оранжевой предупреждающей табличкой
- Включенным задним противотуманным фонарем
- Красным фонарем и красным светоотражателем

1251 3

11. Какое поведение детей на пешеходном переходе Вы должны учитывать ?

- Дети, не обращая внимания на транспорт, побегут к пешеходному переходу
- Дети развернутся без какой-либо причины на пешеходном переходе и побегут назад
- Дети всегда правильно определяют скорость и отдаленность приближающихся транспортных средств и ждут у края проезжей части

1013 5

12. Чем может быть вызвана угроза безопасности ?

- Вынужденной остановкой транспортных средств, которые не ограждены согласно инструкции
- Слишком высокой скоростью
- Включением освещения в дневное время

1007 4

13. Где Вы должны особенно ожидать внезапно появляющийся туман ?

- В руслах рек
- В болотистых областях
- На озерах

1057 3

14. Почему может быть опасен обгон даже на просматриваемой прямой дороге ?

Так как скорость движущегося навстречу транспортного средства часто

- оценивается слишком высоко
- оценивается слишком низко

1074


5

15. Вы хотите обогнать сельскохозяйственный тягач с выступающим назад навесным орудием. Что следует принимать во внимание ?

- Тягачи можно без опасности обгонять, потому что они едут с особенно низкой скоростью
- При выполнении поворота навесное орудие может отклониться в сторону
- Задний прибор освещения может быть сильно загрязнен или закрыт, так что плохо или совсем не видны включенные указатели направления движения

1096

4




16. Какое действие является правильным ?

- Я должен пропустить мотоцикл
- Я могу проехать перед синим легковым автомобилем
- Я могу проехать перед мотоциклом

1348

5



17. Какое действие является правильным ?

- Я дам проехать синему грузовику
- Я дам проехать желтому легковому автомобилю
- Я могу повернуть перед желтым легковым автомобилем

1319

5

18. Где Вам следует особенно принимать в расчет сильное загрязнение проезжей части и опасность скольжения ?

- У строительных площадок
- В местах примыкания полевых дорог
- У перекрестков внутри городов

1045

3



19. Что следует после этого дорожного знака ?

- Подъем через 800 м
- Спуск через 800 м
- Спуск протяженностью 800 м

1366

2




20. На что указывает этот дорожный знак ?

- На конец автобана
- На начало автобана
- На начало скоростной дороги

1456

2



21. Для каких транспортных средств запрещено движение по дорогам, обозначенным таким образом ?

Для транспортных средств,

- чья допустимая осевая нагрузка превышает 2 т
- чья фактическая осевая нагрузка превышает 2 т
- чей допустимый общий вес не превышает 2 т

2423

2

22. Как можно предупредить открытие задней двери ребенком во время движения?

- Привести в действие блокировку от открытия задних дверей детьми
- Надежно закрыть двери

2293

4

23. Вы приближаетесь по левой из двух полос движения к транспортному средству, которое только что поменяло полосу для обгона. Как Вы поступите ?

- К движущемуся впереди выдерживать достаточную дистанцию
- Движущемуся впереди дать возможность обогнать
- Подъехать ближе, подавать звуковые и световые предупредительные сигналы

2257

4

24. Где на стоянке Вы должны применять указатель времени ?

- При неисправном счетчике времени
- Где это предписано дорожным знаком
- Где ограничено запрещена остановка

2199

2

25. Вы движетесь при хорошей видимости по хорошей дороге. В пределах какого расстояния Вы должны, самое позднее, суметь остановиться ?

В пределах

- двойной видимости
- видимости

2135

4

26. Что особенно важно при выборе скорости при движении по аллеям с небольшой шириной проезжей части?

Что, смотря по обстоятельствам, при встречном широком транспортном средстве необходимо будет остановиться на половине просматриваемого расстояния

- Быстро меняющиеся световые условия облегчают оценку боковых расстояний
- Одновременная оценка бокового расстояния и расстояния до встречного транспорта

2056

4

27. Чем может быть создана угроза безопасности ?

- Помехами в приеме дорожных радиопередач
- Ножным тормозом, сильно действующим на одну сторону
- Слишком большим свободным ходом в рулевом управлении

2006

4

28. Что облегчает движение в транспортной колонне ?

- Движение с постоянно включенным аварийным мигающим светом
- Наблюдение за колонной через стекло движущегося впереди
- Слегка смещенное движение на собственной полосе движения

2072

3

29. Какое значение имеют на грузовом автомобиле белые таблички с черной буквой „А“ ?

Грузовой автомобиль

- транспортирует опасные грузы
- транспортирует мусор
- ведет начинающий водитель

2299

2

30. Вы едите со скоростью 40 км/ч. При экстренном торможении тормозной путь составляет прибл. 8 метров. Какой длины будет тормозной путь при 50 км/ч при равных прочих условиях?

- 12,5 м
- 11,0 м
- 9,5 м

2138

4