

Указание к учебной анкете: в поставленных вопросах с напечатанными ответами один или несколько ответов могут быть правильными. Правильные в каждом случае ответы следует отметить крестиком в отведённых для них соответствующих окнах. В вопросах, касающихся чисел или предельных значений, их следует поместить в предназначенные для этого окна.

RUSSISCH

Для заполнения заявителем

Фамилия:	Дата и год рождения:
Имя:	Дата ирождения экзамена:
Автошкола:	
Я заверяю, что на последующие вопросы отвечал сам и без применения вспомогательных средств.	
Подпись:	

Vom Fahrlehrer auszufüllen

Klasse	Fehlerpunkte/5-Punkte-Regel											
	A1	A	B	C1	C	CE	D1	D	M	L	T	S
Grundstoff												
Zusatzstoff												
Summe												
5-Punkte-Regel *												
bestanden												
nicht bestanden												
Bemerkungen:							geprüft von:					

* mehr als eine Frage mit Wertigkeit 5 falsch beantwortet

Перепечатка и размножение настоящей учебной анкеты или её частей запрещена и влечёт за собой судебную ответственность.

1. Что правильно в данной ситуации ?

- На обеих полосах движения разрешен проезд мимо автобуса максимально с шаговой скоростью
- Транспортные средства в левом ряду могут проезжать мимо автобуса без соблюдения особой безопасности
- На обеих полосах необходимо остановиться в случае создания опасности пассажирам



4 (Аварийная сигнализация включена)

1044

2. Почему здесь может быть опасен поворот направо ?

- Так как Вы, возможно, не сможете своевременно остановиться, если пешеходы переходят примыкающую улицу
- Так как транспортные средства, выезжающие из примыкающей улицы, могут быть занесены при торможении
- Так как Ваше транспортное средство может быть занесено при слишком быстром выполнении поворота



4

1055

3. Как Вы должны поступить ?

- Притормозить пораньше, чтобы дать пешеходам понять, что Вы их пропускаете
- Остановиться только тогда, если пешеходы не остановятся
- Просто проехать дальше



4

1037



4. Что Вы должны иметь в виду ?

- Что неожиданно появится встречный транспорт
- Что водитель грузовика вдруг спрыгнет на проезжую часть
- Что дорожные знаки загорожены грузовиком

1086

3

5. Как Вы достигнете небольшого потребления горючего и как можно меньшего выброса вредных веществ ?

- Технически безупречным и правильно отрегулированным двигателем
- Умеренным режимом движения на низких оборотах
- Полными оборотами на всех передачах

1503

3

6. Что это может означать, если на транспортном средстве включен синий проблесковый маячок, но без sireны ?

- Отбуксирующее транспортное средство движется к месту вызова
- Предупреждается об опасности на месте дорожно-транспортного происшествия
- Предупреждается о месте вызова пожарной службы

1309

3

7. Сырость может ухудшить действие барабанных тормозов. Что следует предпринять ?

- Неоднократно воздействовать на тормоз на стоящем автомобиле
- Тормозить осторожно, чтобы высушить тормоза
- Долить тормозной жидкости

1511


3

8. Где запрещена стоянка ?

- На краю проезжей части, если тем самым создается помеха в использовании обозначенных мест стоянки
- Перед опущенным бордюром
- Непосредственно после пешеходных переходов

1207

3



9. Кто в данном случае должен сигнализировать об изменении в направлении движения ?

- Я сам
- Красный легковой автомобиль
- Мотоцикл

1183

3

10. Что поможет укоротить тормозной путь в особенно критических ситуациях ?

- Сначала осторожно и потом все сильнее тормозить (прогрессивное торможение)
- Через короткие промежутки много раз сильно тормозить (прерывное торможение)
- Сразу сильно затормозить и постепенно отпустить, если ситуация это позволяет (дегрессивное торможение)

1512

4

11. Вы хотите из зоны с малым движением выехать на улицу. Как Вы должны поступить ?

- Дать пройти пешеходам по тротуару
- Уступить дорогу транспортным средствам
- Придерживаться правила „правый перед левым“

1190

4

12. Почему в условиях мокрой дороги Вам необходимо соблюдать большее расстояние, чем на сухой дороге ?

- Так как ухудшается сцепление колес с поверхностью дороги
- Так как из-за разбрызгиваемой воды может ухудшиться видимость
- Так как тормозной путь становится длиннее

1046

4

13. В результате чего встречный транспорт может быть ослеплен и ближним светом фар ?

- Слишком высоко отрегулированными фарами
- Неправильно установленными лампочками
- Неправильной загрузкой заднего багажника

1225

3

14. Водитель принял слишком много алкоголя и не имеет права вести транспортное средство. Чем он не может быстро восстановить свою способность вождения ?

Тем, что он

- полчаса поспит
- выпьет две чашки крепкого кофе
- сделает прогулку в течение получаса

1115


4

15. В каких случаях Вы можете обгонять трамвай с левой стороны ?

- На улицах с односторонним движением
- Когда проезжая часть (не улица с односторонним движением) закрыта справа от трамвая другими транспортными средствами
- Когда рельсы расположены слишком далеко вправо

1158

3




16. Какое действие является правильным ?

- Я могу повернуть перед велосипедистом
- Я должен дать проехать велосипедисту
- Я должен дать проехать мотоциклисту

1317

5



17. Какое действие является правильным ?

- Я должен ждать
- Мопед должен ждать

1346

5

18. На расположенных рядом полосах движения в одном направлении заканчивается одна полоса движения. Вы находитесь на полосе без дальнейшего движения. Как вы должны поступить ?

- При перестройке в сквозную полосу движения Вы имеете преимущественное право проезда
- Только непосредственно перед началом сужения необходимо перестроиться на полосы дальнейшего движения по принципу «застежки-молнии»
- Непосредственно после первого указания на сужение дороги необходимо перестроиться на полосы сквозного движения

1167

3



19. Что следует принимать во внимание при этих дорожных знаках ?

- Если Вы продолжаете движение по главной улице, Вы должны включить левый сигнал поворота
- Направление движения налево предписано
- Если Вы продолжаете движение по главной улице, Вы должны обратить внимание на пешеходов, если необходимо, ждать

1464

4



20. Что Вы должны учитывать при виде этого дорожного знака ?

- Эффективность торможения будет лучше, если не включена передача
- Тормозной путь на спуске длиннее, чем на ровной местности
- При длительном нажатии на педаль тормоза эффективность торможения снижается

1355

3



21. Оба легковых автомобиля хотят встать здесь на стоянку. Кто имеет преимущество ?

- Белый легковой автомобиль
- Красный легковой автомобиль

2191

2

22. Где особенно часто возникает аквапланинг (скольжение по воде) ?

- В низинах проезжей части
- На железнодорожных переездах
- При продольных желобках на проезжей части

2035

5

23. На что Вы должны обратить внимание, если Вы ставите на стоянку прицеп без тягача ?

Прицепу разрешается

- стоять на стоянке на общественных улицах не дольше 2-х недель
- встать на стоянку больше, чем на 2 недели, на соответственно обозначенных местах для стоянки
- встать на стоянку на неограниченное время на достаточно укрепленной боковой полосе

2196

3

24. До какой высоты груз не может выступать вперед перед транспортным средством?

Ответ: м

2309

3

25. Ваш легковой автомобиль без автоматического устройства предохранения от блокирования (ABS) при торможении заносит. Как Вы правильно реагируете ?

- На короткое время отпустить тормоза, противодействовать рулем
- Немного сильнее тормозить, не двигать рулевым колесом

2680

3

26. Вы хотите поставить на уклоне Ваш одноосный прицеп (тормоз наката, допустимый общий вес 1000 кг). Что Вы должны сделать ?

- Затянуть стояночный тормоз
- Подложить под колеса подкладные клинья
- Запереть блокировку заднего хода

2686

3

27. К чему склонен легковой автомобиль с передними приводными колесами, если в повороте дают слишком много газа ?

- Он склонен к переуправлению
- Он склонен к заносу впереди
- Он склонен к заносу сзади

2677

3

28. Стоп-сигналы не работают. Что Вы сделаете?

- Немедленно отремонтируете
- Замените тормозную жидкость

2785

4

29. В Вашем легковом автомобиле рулевое колесо вибрирует во время движения. С чем это может быть связано?

- Колеса не отбалансированы
- Амортизаторы неисправны
- Подвеска колес повреждена

2775

3

30. Вы движетесь по узкой улице. На расстоянии 20 м перед Вами неожиданно вступает на проезжую часть пешеход. Когда, несмотря на экстренное торможение, столкновение неизбежно ?

При скорости в

- 20 км/ч
- 30 км/ч
- 50 км/ч

2007

4