

Указание к учебной анкете: в поставленных вопросах с напечатанными ответами один или несколько ответов могут быть правильными. Правильные в каждом случае ответы следует отметить крестиком в отведённых для них соответствующих окнах. В вопросах, касающихся чисел или предельных значений, их следует поместить в предназначенные для этого окна.

RUSSISCH

Для заполнения заявителем

Фамилия:	Дата и год рождения:
Имя:	Дата ироведения экзамена:
Автошкола:	
Я заверяю, что на последующие вопросы отвечал сам и без применения вспомогательных средств.	
Подпись:	

Vom Fahrlehrer auszufüllen

Klasse	Fehlerpunkte/5-Punkte-Regel											
	A1	A	B	C1	C	CE	D1	D	M	L	T	S
Grundstoff												
Zusatzstoff												
Summe												
5-Punkte-Regel *												
bestanden												
nicht bestanden												
Bemerkungen:							geprüft von:					

* mehr als eine Frage mit Wertigkeit 5 falsch beantwortet

Перепечатка и размножение настоящей учебной анкеты или её частей запрещена и влечёт за собой судебную ответственность.

1. Почему Вы должны быть здесь особенно осторожны ?

- Потому что при торможении существует повышенная опасность скольжения
- Потому что справа может появиться транспортное средство
- Потому что движущийся слева автомобиль имеет преимущество



1088

3

2. Что Вы должны принимать во внимание за этой вершиной подъема дороги ?

- Транспортное средство может сделать там вынужденную остановку
- Вам навстречу может двигаться транспортное средство, которое заехало на Вашу полосу движения
- На Вашей полосе движения может находиться тихоходное транспортное средство



1098

3

3. Что Вам следует учитывать в этой ситуации ?

- Вам не разрешается обгонять автобус до тех пор, пока он движется
- Вам разрешается обгонять автобус, пока он еще движется
- Вам разрешается проезжать мимо стоящего автобуса с шаговой скоростью, если исключено создание опасности пассажирам



(Аварийная сигнализация включена)

1034

4



4. Что Вы должны учитывать ?

- Один из детей может повернуть назад, чтобы подобрать мяч
- Дети наверняка будут ждать у края проезжей части, пока Вы не проедете мимо
- Девочка может развернуться и побежать к другим детям

1018

5

5. Как Вы поступите, если автобус остановился на остановке и у него включена аварийная сигнализация ?

- Продолжать движение с шаговой скоростью и при необходимости остановиться
- При проезде мимо соблюдать достаточное боковое расстояние, чтобы исключить угрозу безопасности пассажирам
- Ждать, если может создаться помеха пассажирам

1245

5

6. По какой приблизительной формуле можно по скорости определить в метрах путь, который транспортное средство пройдет за 1 сек. ?

- $\frac{\text{Скорость в км/ч}}{10} \times 5$
- $\frac{\text{Скорость в км/ч}}{10} \times \frac{\text{Скорость в км/ч}}{10}$
- $\frac{\text{Скорость в км/ч}}{10} \times 3$

1145

2

7. Где Вам следует особенно принимать в расчет сильное загрязнение проезжей части и опасность скольжения ?

- У строительных площадок
- В местах примыкания полевых дорог
- У перекрестков внутри городов

1045


3

8. Как сказывается существенное уменьшение рекомендуемого давления в шинах ?

- Расход горючего повышается
- Износ шин увеличивается
- Выброс вредных веществ уменьшается

1492

3



9. Где Вы должны ждать ?

- У линии видимости
- На уровне светофора
- У стоп-линии

1298

4

10. Осенью днем навстречу Вам движется поток легковых автомобилей с включенным ближним светом. На что Вы должны особенно рассчитывать ?

- На внезапно появляющиеся полосы тумана
- На загрязненную проезжую часть дороги
- На сильный ливень

1060

3

11. Что может способствовать экономии горючего и снижению отрицательного воздействия на окружающую среду ?

- Уже при покупке автомобиля обратить внимание на потребление горючего
- Осмотрительной манерой езды внести свой вклад в равномерное движение транспорта
- По возможности пользоваться общественным транспортом, передвигаться на велосипеде или ходить пешком

1510

3

12. При зеленом свете светофора Вы хотите повернуть налево; слева рядом с Вами трамвай намерен продолжать движение прямо. Что правильно ?

- Трамвай должен ждать
- Взаимно договориться, так как на этот случай не существует правила
- Вы должны ждать

1303

4

13. Вы приближаетесь к школе. Дети покидают здание школы. Что Вы должны принимать в расчет ?
Что дети

- невнимательно бросаются на проезжую часть
- со своими велосипедами неосторожно выезжают на проезжую часть
- всегда ведут себя в соответствии с правилами дорожного движения

1091

5

14. На что Вы должны особенно обращать внимание, проезжая перекрестки и примыкающие улицы внутри населенного пункта ?

- Более широкая улица всегда имеет преимущество
- На всех перекрестках и примыкающих дорогах без исключений действует правило „правый перед левым“
- Пересекающие и примыкающие улицы могут давать право преимущественного проезда, несмотря на то, что они узкие и худшего качества

1084


3

15. В зеркале заднего вида Вы видите установленную на крыше движущегося непосредственно за Вами полицейского автомобиля надпись „STOP POLIZEI“ (СТОП ПОЛИЦИЯ). Для кого это предназначено ?

- Для всех последующих транспортных средств
- Только для Вас
- Для всех транспортных средств, находящихся на улице

1289

3




16. Какое действие является правильным ?

- Синий легковой автомобиль должен ждать
- Мотоцикл может повернуть передо мной
- Я дам повернуть синему легковому автомобилю

1322

5



17. Какое действие является правильным ?

- Я должен пропустить трактор
- Я должен пропустить трамвай
- Я могу повернуть перед трамваем

1332

5

18. Вы хотите въехать из ряда стоящих на стоянке транспортных средств в поток проходящего транспорта. Позади Вас стоит на стоянке грузовой автопоезд. Как Вы оцените эту ситуацию ?

- Въезд в транспортный поток в данном месте безопасен, потому что Вы находитесь под прикрытием стоящего сзади Вас грузового автопоезда
- Из-за закрытого обзора Вы можете слишком поздно увидеть приближающиеся транспортные средства
- Из-за закрытого обзора приближающиеся сзади транспортные средства могут слишком поздно увидеть Ваше транспортное средство

1090

3



19. Какие транспортные средства могут пользоваться специальными полосами движения, обозначенными таким образом ?

- Грузовые автомобили
- Маршрутные автобусы
- Легковые автомобили

1422

2



20. Что Вы должны сделать при виде этого дорожного знака ?

- Остановиться у стоп-линии, а при необходимости вновь остановиться у линии видимости
- Если нет стоп-линии, остановиться у линии видимости
- Остановиться только тогда, когда на поперечной дороге появится транспорт

1394

4



21. Что Вы должны принять во внимание, если Вы хотите обогнать ?

- Фургон может сам начать обгон движущегося впереди него транспортного средства
- Может появиться встречный транспорт
- Так как не видно встречного транспорта, Вы можете, не задумываясь, обгонять

2059 4

22. Стекло левого наружного зеркала заднего вида треснуло. Что Вы сделаете?

- Не станете заменять стекло зеркала, так как еще можно отчасти видеть происходящее сзади
- Замените стекло зеркала

2788 2

23. Как проявляет себя автоматическое устройство предохранения от блокирования (ABS) ?

- И на скользкой проезжей части транспортное средство тормозится по возможности наилучшим образом
- Нет скольжения по воде (аквапланинг)
- При торможении в большой степени сохраняется способность управления рулем

2834 4

24. Что Вам разрешается изменить на государственном номерном знаке ?

- Наклеивание пленки для защиты шрифта
- Не разрешается ничего менять
- Расположить цветные наклейки

2366 2

25. Вы движетесь с повышенной скоростью. Где Вы особенно неожиданно можете встретить препятствия ?

- На автобанах
- В лесных областях (дикие животные перебегают проезжую часть)
- За вершинами подъемов горы

2051 4

26. Что действует на автобанах ?

- Запрещена остановка на проезжей части и на боковой полосе
- В темное время суток не разрешается ни при каких условиях двигаться быстрее, чем это позволяет дальность видимости ближнего света
- Запрещается движение задним ходом

2264 4

27. Какие части системы освещения транспортного средства необходимо продублировать, если они загорожены, например, прикрепленными приборами или дополнительным сооружением для груза ?

- Указатели поворотов и тормозные фонари
- Задние фонари, отражатели и освещение номерного знака
- Задние и рабочие фары

2247 2

28. Педаль тормоза выжимается до пола транспортного средства. Только при многократном нажатии ход педали становится короче. Что Вы должны сделать ?

- Достаточно долить тормозную жидкость
- Немедленно остановить транспортное средство
- Отремонтировать тормоз

2782 5

29. Вы движетесь по очень узкой дороге и видимость составляет 50 м. Какой максимально может быть Ваш остановочный путь ?

Ответ: м

2134 4

30. Замок ремня безопасности не закрывается. Что Вам делать ?

- Отремонтировать замок
- Ничего, потому что сидение оснащено подушкой безопасности
- Ехать на небольшой скорости

2794 2