

Указание к учебной анкете: в поставленных вопросах с напечатанными ответами один или несколько ответов могут быть правильными. Правильные в каждом случае ответы следует отметить крестиком в отведённых для них соответствующих окнах. В вопросах, касающихся чисел или предельных значений, их следует поместить в предназначенные для этого окна.

RUSSISCH

Для заполнения заявителем

Фамилия:	Дата и год рождения:
Имя:	Дата и время проведения экзамена:
Автошкола:	
Я заверяю, что на последующие вопросы отвечал сам и без применения вспомогательных средств.	
Подпись:	

Vom Fahrlehrer auszufüllen

Klasse	Fehlerpunkte/5-Punkte-Regel											
	A1	A	B	C1	C	CE	D1	D	M	L	T	S
Grundstoff												
Zusatzstoff												
Summe												
5-Punkte-Regel *												
bestanden												
nicht bestanden												
Bemerkungen:							geprüft von:					

* mehr als eine Frage mit Wertigkeit 5 falsch beantwortet

Перепечатка и размножение настоящей учебной анкеты или её частей запрещена и влечёт за собой судебную ответственность.

1. Как Вы должны поступить ?

- Соблюдать достаточную дистанцию до пешехода
- С помощью звукового сигнала призвать пешехода с мопедом перейти на тротуар
- Осторожно объехать слева



1039

4

2. Что Вы должны иметь в виду ?

Что

- тормозной путь увеличится
- водитель автобуса даст Вам проехать
- автобус внезапно трогается с места



1104

3

3. Что Вы должны принимать в расчет ?

- Опасный левый поворот
- Транспортное средство, совершившее вынужденную остановку за вершиной подъема
- Пересекающееся движение перед поворотом



1101

3



4. На что Вы должны рассчитывать ?

- Водитель мопеда может взять левее, чтобы обогнать велосипедиста
- Водитель автомобиля-фургона может при загрузке еще дальше выйти на проезжую часть
- На пешеходов, которые переходят проезжую часть перед автомобилем-фургоном

1099

4

5. По какой приблизительной формуле можно по скорости определить в метрах путь, который транспортное средство пройдет за 1 сек. ?

- $\frac{\text{Скорость в км/ч}}{10} \times 5$
- $\frac{\text{Скорость в км/ч}}{10} \times \frac{\text{скорость в км/ч}}{10}$
- $\frac{\text{Скорость в км/ч}}{10} \times 3$

1145

2

6. В каких случаях Вы должны включить указатель поворота ?

- Перед поворотом в примыкающую дорогу или во двор или земельный участок
- Когда Вы хотите следовать по заворачивающей главной улице
- Когда Вы хотите следовать в прямом направлении, покидая заворачивающую главную улицу

1172

4

7. Как необходимо переключать передачу, чтобы двигаться экономично, особенно имея в виду окружающую среду ?

- Как можно раньше переключать на более высокую передачу
- Как можно позже переключать на более низкую передачу
- Движение на каждой передаче до максимального числа оборотов и потом переключение на следующую передачу

1499


3

8. В зоне автобусных остановок можно останавливаться только тогда, когда не создается помеха автобусам. На какое время, самое большее, можно остановиться ?

Ответ: мин.

1215

2



9. Вы по ошибке перестроились в левую полосу движения, но хотите повернуть направо. Как Вы поступите ?

- Двигаться прямо или повернуть налево
- Осторожно повернуть направо

1139

4

10. На каком минимальном расстоянии должно находиться поставленное на стоянку транспортное средство вне населенных пунктов от знака „Андреас-крест“ ?

Ответ: м

1212

2

11. Легкомысленно ли обгонять грузовой автопоезд непосредственно перед перекрестком ?

- Нет, потому что грузовые автопоезда обычно движутся медленно
- Да, потому что грузовой автопоезд может закрыть обзор на важные дорожные знаки
- Да, потому что грузовой автопоезд закрывает обзор на боковое движение

1072

5

12. Полицейский регулирует движение на перекрестке, на котором поставлены дорожные знаки, регулирующие преимущество проезда. Что действует ?

- Дорожные знаки, регулирующие преимущество проезда
- Знаки полицейского
- Правило „правый перед левым“

1284

4

13. Перед пешеходным переходом на правой полосе проезжей части остановился грузовой автомобиль. Вы движетесь по левой стороне движения. Как Вы поступите ?

- Ждать, потому что пешеходы могут перейти проезжую часть
- Подать предупредительный сигнал и обогнать грузовой автомобиль
- Не замедляя, продолжать движение, если Вы не видите перед собой пешеходов

1269

5

14. Когда обгоняющий подвергнут опасности ?

Когда обгоняемый

- вдруг ускоряет движение
- сильно уменьшает свою скорость
- для обгона меняет полосу движения

1076


5

15. При въезде в промышленный район стоит знак „Андреас-крест“ с дополнительной табличкой „Промышленный район, рельсовые транспортные средства имеют преимущество в движении“. На что Вы должны обратить внимание ?

- Подъезжать к железнодорожным переездам только на умеренной скорости
- Рельсовые транспортные средства имеют преимущество в движении на всех железнодорожных переездах
- Автомобили имеют преимущество на железнодорожных переездах без знака „Андреас-крест“

1232

3




16. Какое действие является правильным ?

- Велосипедист должен ждать
- Я должен ждать

1324

5



17. Какое действие является правильным ?

- Я должен дать проехать велосипедисту
- Я могу повернуть перед велосипедистом
- Синий грузовой автомобиль может ехать первым

1351

5

18. На каких участках без установленных дорожных знаков, регулирующих преимущественный проезд, действует правило „правый перед левым“ ?

- На перекрестках дорог и примыкающих дорогах
- На примыкающих улицах с опущенным бордюром
- Где полевые и лесные дороги примыкают к другой улице

1312

5




19. Что Вы должны принимать во внимание в зоне действия этого знака ?

- Вы должны рассчитывать на подъезжающие и отъезжающие такси
- Вы можете остановиться
- Вы можете встать на стоянку

1417

2



20. На что указывает этот дорожный знак ?

- На подземный переезд
- На тупик
- На закрытую для движения транспортных средств дорогу

1478

2



21. Вы приближаетесь к грузовому автопоезду, который со скоростью примерно 60 км/ч выезжает на Вашу полосу движения. Какие у Вас есть возможности ?

- Остаться на полосе движения и дать возможность автопоезду сменить полосу
- Тщательно наблюдая за следующими сзади транспортными средствами, перейти на левую полосу движения
- Остаться на полосе движения, подать предупредительный световой сигнал и нажать на газ

2089 4

22. Вследствие чего повышается расход топлива Вашего легкового автомобиля ?

- Из-за багажника на крыше или устройства для лыж
- Из-за слишком большого давления в шинах
- Из-за необязательных предметов в автомобиле

2456 3

23. Тормоз на Вашем легковом автомобиле действует с сильным акцентом на одну сторону. Какие последствия могут быть у торможения?

- Боковой вынос транспортного средства
- Выход из строя антиблокировочной системы (АБС)
- Более долгий путь торможения

2780 3

24. Вы движетесь по шоссе в колонне. Как Вы должны себя вести ?

- Попытаться быстрее продвинуться с помощью „прыгания в колонне“
- Соблюдать безопасное расстояние
- Движущихся впереди подачей звукового сигнала и включением сигналов поворотов призывать к обгону

2065 3

25. Педаль тормоза выжимается до пола транспортного средства. Только при многократном нажатии ход педали становится короче. Что Вы должны сделать?

- Немедленно остановить транспортное средство
- Отремонтировать тормоз
- Достаточно долить тормозную жидкость

2782 5

26. Ремень безопасности больше автоматически не сматывается. С чем это может быть связано?

- Ремень безопасности перекручен
- Неисправно устройство автоматического сматывания
- Неисправно регулирование положения сидения

2795 2

27. Что необходимо принимать во внимание при наличии подголовников?

- Они оптимально регулируются на заводе
- В соответствии с инструкцией по эксплуатации их следует регулировать по высоте головы
- На задних сиденьях они заменяют ремни безопасности

2291 3

28. Вы хотите покинуть автобан. Следующий выезд имеет полосу замедления. Как Вы должны поступить ?

- Заблаговременно перестроиться на правую полосу движения и своевременно включить световой указатель поворота
- Снизить и контролировать скорость на полосе замедления
- На правой полосе движения снизить скорость до 60 км/ч и потом выехать на полосу замедления

2083 4

29. Что Вы должны сделать, покидая Ваш легковой автомобиль ?

- Перед тем, как открыть дверь, наблюдать за движущимся сзади транспортом
- Обезопасить транспортное средство против самопроизвольного скатывания
- Обезопасить транспортное средство от использования его без разрешения

2212 3

30. Ваш легковой автомобиль оснащен зимними шинами (M+S). На приборной панели помещена наклейка „с M+S 160“. Что это значит ?

- Разрешается движение с максимальной скоростью 160 км/ч
- Наклейка недействительна на сухой проезжей части
- Наклейка недействительна на мокрой от дождя проезжей части

2940 3