

Указание к учебной анкете: в поставленных вопросах с напечатанными ответами один или несколько ответов могут быть правильными. Правильные в каждом случае ответы следует отметить крестиком в отведённых для них соответствующих окнах. В вопросах, касающихся чисел или предельных значений, их следует поместить в предназначенные для этого окна.

RUSSISCH

**Для заполнения заявителем**

Фамилия:	Дата и год рождения:
Имя:	Дата ироведения экзамена:
Автошкола:	
Я заверяю, что на последующие вопросы отвечал сам и без применения вспомогательных средств.	
Подпись:	

**Vom Fahrlehrer auszufüllen**

Klasse	Fehlerpunkte/5-Punkte-Regel											
	A1	A	B	C1	C	CE	D1	D	M	L	T	S
Grundstoff												
Zusatzstoff												
Summe												
5-Punkte-Regel *												
bestanden												
nicht bestanden												
Bemerkungen:							geprüft von:					

\* mehr als eine Frage mit Wertigkeit 5 falsch beantwortet

Перепечатка и размножение настоящей учебной анкеты или её частей запрещена и влечёт за собой судебную ответственность.

**1. Что Вы должны учитывать ?**

- Пешеходы перед Вами могут вступить на проезжую часть
- Внезапно между поставленными на стоянку транспортными средствами могут выбежать дети
- Пешеходы в любом случае ждут, пока Вы не проехали



1029

4

**2. Впереди мотоцикла легковой автомобиль хочет выехать на проезжую часть задним ходом. На что Вы должны рассчитывать ?**

- Что тормозные огни стоп-сигнала могут погаснуть и легковой автомобиль может дальше двигаться назад
- Что водитель мотоцикла может внезапно затормозить
- Что Ваш тормозной путь может стать длиннее обычного



1103

3

**3. Что Вы должны иметь в виду ?**

Девочка перед Вами

- может повернуть налево, чтобы следовать за другой
- может повернуть налево, не показав изменения в направлении движения
- обязательно будет продолжать движение в том же направлении, так как она не показывает изменения в направлении движения



1016

5



**4. Что Вам следует учитывать ?**

- Люди переходят улицу перед автобусом
- Автобус неожиданно дает задний ход
- Люди перебегают улицу слева, чтобы еще успеть к автобусу

1027

3

**5. Как необходимо переключать передачу, чтобы двигаться экономично, особенно имея в виду окружающую среду ?**

- Как можно раньше переключать на более высокую передачу
- Как можно позже переключать на более низкую передачу
- Движение на каждой передаче до максимального числа оборотов и потом переключение на следующую передачу

1499

3

**6. О чем может предупреждать желтый мигающий свет на транспортном средстве ?**

- Об опасностях на местах проведения работ или дорожно-транспортном происшествии
- О транспортном средстве необычной ширины
- О медленно движущемся транспортном средстве больших габаритов

1308

3

**7. Полицейский регулирует движение на перекрестке, хотя светофор работает. Что действует ?**

- Знаки полицейского
- Световые сигналы светофоров
- Дорожные знаки, регулирующие преимущество проезда

1283


4

**8. На непосредственно перед Вами движущемся полицейском транспортном средстве светится надпись „Bitte folgen“ (Пожалуйста, следуйте). Какое это имеет значение ?**

- Только Вы обязаны следовать за полицейским транспортным средством
- Все транспортные средства, движущиеся в том же направлении, обязаны следовать за полицейским транспортным средством
- Только тяжелый транспорт должен следовать за полицейским транспортным средством

1290

3



**9. Как Вы должны правильно поступить ?**

- Обоим пешеходам дать возможность перейти дорогу
- Продолжать движение, так как пешеходы должны Вас пропустить
- Проехать перед идущим навстречу пешеходом, так как он обязан ждать

1264

4

**10. Что может означать сам по себе синий проблесковый маячок (без sireны) ?**

- Транспортное средство находится в оперативной поездке. Вам предлагается ему освободить место
- Оповещение о сгруппированной колонне
- Без sireны синий проблесковый маячок не имеет никакого значения

1310

3

**11. Вы должны ждать в транспортном заторе; перед Вами находится пешеходный переход. Как Вы поступите ?**

- Присоединиться и ждать на переходе, если не видно пешеходов
- Переход оставить свободным
- Присоединиться и ждать на переходе, чтобы укоротить затор

1270

4

**12. Какие транспортные средства на шоссе должны по возможности использовать укрепленную обочину ?**

- Медленно движущиеся сельскохозяйственные тягачи и рабочие машины
- Мопеды и инвалидные коляски
- Малолитражные мотоциклы

1137

3

**13. Приближается транспортное средство с синим проблесковым маячком и включенной sireной. Как Вы поступите ?**

- В любом случае резко затормозить и остановиться
- Освободить дорогу этому транспортному средству
- Если необходимо, осторожно заехать на тротуар

1306

4

14. С какой стороны следует обогнать трамвай, движущийся по середине проезжей части (не имеется в виду улица с односторонним движением) ?

- С левой стороны
- Слева только тогда, когда другие транспортные средства закрывают справа проезжую часть
- С правой стороны

1157


3

15. При зеленом свете светофора Вы хотите повернуть налево; слева рядом с Вами трамвай намерен продолжать движение прямо. Что правильно ?

- Трамвай должен ждать
- Вы должны ждать
- Взаимно договориться, так как на этот случай не существует правила

1303

4




16. Какое действие является правильным ?

- Я должен пропустить желтый легковой автомобиль
- Я проезжаю первым

1352

5



17. Какое действие является правильным ?

- Я должен дать проехать велосипедисту
- Я могу повернуть перед велосипедистом
- Я должен дать проехать мотоциклисту

1317

5

18. Что необходимо учитывать при перевозке груза?

- Груз не должен мешать водителю
- Недопустимо превышать максимальные значения размеров и веса
- На высоте, большей 2,50 м, груз может выступать вперед за контур транспортного средства не более чем на 50 см

1252

3



19. Что здесь следует учитывать (не улица с преимущественным проездом) ?

- Транспортным средствам не разрешается пересекать среднюю линию или заезжать на нее
- Среднюю линию можно пересечь только тогда, когда это позволяет встречный транспорт
- Разрешается встать на стоянку только тогда, когда между поставленным на стоянку транспортным средством и средней линией остается полоса для движения по меньшей мере в 3 м

1445

4



20. Что разрешается этими дорожными знаками ?

- С талоном на стоянку из автомата здесь может любой встать на стоянку неограничено
- Остановка для любого с целью посадки или высадки
- Здесь могут встать на стоянку инвалиды с соответственно пронумерованным удостоверением на стоянку

1407

2



21. Какой дорожный знак указывает на допустимый общий вес ?

Номер

Ответ:

2421

2

22. Вы движетесь со скоростью около 40 км/ч. Примерно в 40 м перед Вами светофор меняет „зеленый“ на „желтый“. Как Вы поступите ?

- Продолжать движение
- Остановиться

2412

4

23. Вы приближаетесь с высокой скоростью к узкому левому повороту. Почему Вы должны уже перед поворотом снизить скорость ?

Так как

- Вы иначе вылетите из поворота налево
- Вы иначе вылетите из поворота направо
- Вас занесет, если Вы затормозите только в повороте

2054

4

24. Что может привести к заносу на поворотах ?

- Слишком малая нагрузка
- Неисправные гасители (амортизатор)
- Слишком низкое или сильно разное давление воздуха в шинах

2001

3

25. Как Вы можете сохранить достаточную видимость через ветровое стекло ?

- При изнутри запотевшем стекле выключить вентиляцию и держать закрытыми окна
- При тумане время от времени включать стеклоочистители
- При снежной грязи уже включать стеклоочистители прежде, чем Вам другие транспортные средства забрызгают грязью стекло

2041

3

26. Что Вы должны учитывать при выезде на автобан ?

- Проходящий транспорт имеет преимущественный проезд
- Проходящий транспорт должен освободить правую полосу движения
- На полосе ускорения разрешается двигаться быстрее, чем на проходящей проезжей части

2088

5

27. Вы едете в темное время суток с ближним светом. Движущиеся вам навстречу переключают ближний свет фар на дальний и обратно. Что это может означать ?

- Фары Вашего транспортного средства могут быть неправильно отрегулированы и слепить
- На Вашем транспортном средстве регулировка угла наклона оптической оси фар не приведена в соответствие со степенью нагрузки
- Другие призывают Вас включить дальний свет

2787

3

28. Что у транспортного средства может привести к тому, что дизельный двигатель дымится ?

- Засоренный топливный фильтр
- Неисправности в системе впрыска
- Движение на больших оборотах двигателя при полной нагрузке

2465

3

29. Сколько обычно длится пробный срок ?

- 1 год
- 2 года
- 3 года

2954

2

30. Непосредственно перед тем, как Вы хотите начать движение, Вы очень рассердились и разъярились. Что правильно ?

- В разъяренном состоянии не следует начинать движение
- Я начну движение и разряжусь при движении („отыграюсь“)

2099

4