

Указание к учебной анкете: в поставленных вопросах с напечатанными ответами один или несколько ответов могут быть правильными. Правильные в каждом случае ответы следует отметить крестиком в отведённых для них соответствующих окнах. В вопросах, касающихся чисел или предельных значений, их следует поместить в предназначенные для этого окна.

RUSSISCH

Для заполнения заявителем

Фамилия:	Дата и год рождения:
Имя:	Дата ириведения экзамена:
Автошкола:	
Я заверяю, что на последующие вопросы отвечал сам и без применения вспомогательных средств.	
Подпись:	

Vom Fahrlehrer auszufüllen

Fehlerpunkte/5-Punkte-Regel

Klasse	A1	A	B	C1	C	CE	D1	D	M	L	T	S
Grundstoff												
Zusatzstoff												
Summe												
5-Punkte-Regel *												
bestanden												
nicht bestanden												
Bemerkungen:							geprüft von:					

* mehr als eine Frage mit Wertigkeit 5 falsch beantwortet

Перепечатка и размножение настоящей учебной анкеты или её частей запрещена и влечёт за собой судебную ответственность.

1. Что правильно в данной ситуации ?

- Транспортные средства в левом ряду могут проезжать мимо автобуса без соблюдения особой безопасности
- На обеих полосах движения разрешен проезд мимо автобуса максимально с шаговой скоростью
- На обеих полосах необходимо остановиться в случае создания опасности пассажирам



4 (Аварийная сигнализация включена)

1044

2. Как Вы должны поступить ?

- Остановиться только тогда, если пешеходы не остановятся
- Притормозить пораньше, чтобы дать пешеходам понять, что Вы их пропускаете
- Просто проехать дальше



4

1037

3. Что Вы должны здесь сделать, если Вас ослепил дальний свет ?

- Вы смотрите на правый край проезжей части
- При необходимости снизить скорость
- Ускорить движение, чтобы быстрее выехать из ослепляющего светового потока



4

1062




4. Как Вы должны поступить ?

- За детьми
– не надо наблюдать, так как они находятся на тротуаре
- внимательно наблюдать и осторожно продолжать движение

1015

4



9. Кто в данном случае должен сигнализировать об изменении в направлении движения ?

- Я сам
- Красный легковой автомобиль
- Мотоцикл

1183

3

5. Два транспортных средства движутся навстречу друг другу и оба хотят повернуть налево. Как обычно в этом случае они должны поступить ?

- Они поворачивают друг перед другом
- Они движутся по большой дуге и заворачивают друг за другом

1176

3

6. От чего зависит тормозной путь ?

От состояния

- шин
- тормозной системы
- поверхности проезжей части

1141

3

7. Что необходимо регулярно проверять, чтобы избежать слишком высокого потребления горючего и чрезмерного выброса вредных веществ ?

- Воздушный фильтр двигателя
- Карбюратор или устройство для впрыска
- Устройство зажигания

1491

3

8. В зоне автобусных остановок можно останавливаться только тогда, когда не создается помеха автобусам. На какое время, самое большее, можно остановиться ?

Ответ: мин.

1215

2

10. На каком расстоянии до и после таблички, указывающей на место для остановки, Вам нельзя встать на стоянку ?

Ответ: По м

1214

2

11. Когда, самое раннее, в центральном дорожном реестре погашаются занесенные нарушения правил дорожного движения ?

- Через один год
- Через два года
- Через пять лет

1516

3

12. Вы хотите из зоны с малым движением выехать на улицу. Как Вы должны поступить ?

- Дать пройти пешеходам по тротуару
- Придерживаться правила „правый перед левым“
- Уступить дорогу транспортным средствам

1190

4

13. В каких случаях Вы должны особенно осторожно подъезжать к пешеходному переходу ?

- Когда пешеходы хотят перейти проезжую часть
- Когда закрыт обзор на пешеходный переход
- Когда другое транспортное средство уже ждет перед пешеходным переходом

1263

5

14. Какие ошибки делают обгон опасным и на просматриваемой прямой дороге ?

- Собственный путь обгона оценивается слишком длинным
- Расстояние до движущегося навстречу транспортного средства оценивается слишком большим
- Собственный путь обгона оценивается слишком коротким

1075


5

15. Два транспортных средства движутся навстречу друг другу и оба хотят повернуть налево. В каких случаях они не должны поворачивать налево друг перед другом ?

- Если Вы увидите, что движущийся навстречу намерен поворачивать налево за Вами
- Если движущийся навстречу останавливается непосредственно перед серединой перекрестка
- Если дорожная разметка это запрещает

1177

3




16. Какое действие является правильным ?

- Велосипедист должен ждать
- Я должен ждать

1315

5



17. Какое действие является правильным ?

- Я должен дать проехать велосипедисту
- Я могу повернуть перед велосипедистом
- Синий грузовой автомобиль может ехать первым

1351


5

18. На каких участках без установленных дорожных знаков, регулирующих преимущественный проезд, действует правило „правый перед левым“ ?

- На выездах со дворов или с земельных участков
- В конце зоны с малым движением
- На перекрестках дорог и примыкающих дорогах

1311

5




19. Что разрешается на главных дорогах вне населенного пункта ?

- Стоянка на проезжей части
- Остановка на правом краю дороги
- Стоянка на обочине

1463

3



20. Как Вы поступите при виде этого дорожного знака ?

- Вы должны включить указатель правого поворота
- Вам не разрешается продолжать движение направо
- Вы можете продолжать движение только направо

1411

2



21. Светофор только что сменил цвет на „желтый“. Как Вы, как поворачивающий налево, поступите ?

- Решительно повернуть
- Остановиться

2414 4

22. Педаль тормоза выжимается до пола транспортного средства. Только при многократном нажатии ход педали становится короче. Что Вы должны сделать ?

- Достаточно долить тормозную жидкость
- Немедленно остановить транспортное средство
- Отремонтировать тормоз

2782 5

23. На чем Вы можете увидеть, когда Вы должны представить Ваше транспортное средство к очередному основному техническому осмотру ?

- На плакетке техосмотра
- На счетчике километров
- По записи в паспорте о допущении транспортного средства к уличному движению

2471 2

24. Как гласит эмпирическая формула для расчета тормозного пути при экстренном торможении на ровной, сухой и асфальтированной проезжей части ?

- $\left(\frac{\text{Скорость в км/ч}}{10} \times \frac{\text{Скорость в км/ч}}{10} \right) : 2$
- $\left(\frac{\text{Скорость в км/ч}}{10} \times 5 \right) : 2$
- $\left(\frac{\text{Скорость в км/ч}}{10} \times 3 \right) : 2$

2137 4

25. Корректная регулировка левого наружного зеркала заднего вида невозможна. Что Вам делать ?

- Отремонтировать регулирующее устройство
- Ничего, так как достаточно обзора во внутреннем зеркале заднего вида

2789 2

26. Стеклоомыватель не работает. С чем это может быть связано ?

- Нет воды в бачке
- Неисправен предохранитель
- Сопла забиты

2790 2

27. На дороге с выбоинами начинает подпрыгивать Ваш прицеп. Как Вы должны поступить ?

- Ускориться, чтобы держать состав в натяжении
- Уменьшить скорость, чтобы предупредить занос
- Не меняя скорости, объезжать выбоины

2536 3

28. Ближний свет одной из фар горит слабее, чем в другой. С чем это может быть связано ?

- Блеклый рефлектор в фаре
- Неисправен генератор
- Установлена неподходящая лампа накаливания

2783 2

29. Что может привести на мокрой проезжей части к аквапланингу (скольжение по воде) ?

- Высокая скорость
- Изношенные шины
- Продольные желобки на проезжей части

2022 5

30. Вы едите со скоростью 40 км/ч. При экстренном торможении тормозной путь составляет прилб. 8 метров. Какой длины будет тормозной путь при 50 км/ч при равных прочих условиях ?

- 9,5 м
- 11,0 м
- 12,5 м

2138 4