

Указание к учебной анкете: в поставленных вопросах с напечатанными ответами один или несколько ответов могут быть правильными. Правильные в каждом случае ответы следует отметить крестиком в отведённых для них соответствующих окнах. В вопросах, касающихся чисел или предельных значений, их следует поместить в предназначенные для этого окна.

RUSSISCH

Для заполнения заявителем

Фамилия:	Дата и год рождения:
Имя:	Дата ироведения экзамена:
Автошкола:	
Я заверю, что на последующие вопросы отвечал сам и без применения вспомогательных средств.	
Подпись:	

Vom Fahrlehrer auszufüllen

Klasse	Fehlerpunkte/5-Punkte-Regel											
	A1	A	B	C1	C	CE	D1	D	M	L	T	S
Grundstoff												
Zusatzstoff												
Summe												
5-Punkte-Regel *												
bestanden												
nicht bestanden												
Bemerkungen:							geprüft von:					

* mehr als eine Frage mit Wertigkeit 5 falsch beantwortet

Перепечатка и размножение настоящей учебной анкеты или её частей запрещена и влечёт за собой судебную ответственность.

1. Как Вы должны поступить ?

- Продолжать движение слева
- Притормозить и при необходимости остановиться
- Подать только предупредительный сигнал и продолжать движение



1021

5

2. Как Вы должны поступить ?

- Соблюдать достаточную дистанцию до пешехода
- Осторожно объехать слева
- С помощью звукового сигнала призвать пешехода с мопедом перейти на тротуар



1039

4

3. Почему Вы должны быть здесь особенно осторожны ?

- Потому что при торможении существует повышенная опасность скольжения
- Потому что движущийся слева автомобиль имеет преимущество
- Потому что справа может появиться транспортное средство



1088

3



4. Что Вы должны иметь в виду ?

- Неровную и загрязненную проезжую часть
- Дорожных рабочих и строительное оборудование на проезжей части
- Полиция регулирует движение транспорта

1102

3

5. По какой приблизительной формуле можно по скорости определить в метрах путь, который транспортное средство пройдет за 1 сек. ?

- $\frac{\text{Скорость в км/ч}}{10} \times 5$
- $\frac{\text{Скорость в км/ч}}{10} \times 3$
- $\frac{\text{Скорость в км/ч}}{10} \times \frac{\text{скорость в км/ч}}{10}$

1145

2

6. Какое значение имеет знак „Андреас-крест“ с красным мигающим светом в форме стрелки, показывающей направо ?

- Участники движения, поворачивающие направо, должны ждать
- Для участников движения, движущихся в прямом направлении, мигающий свет не имеет значения
- Красный мигающий свет имеет значение только для рельсовых транспортных средств

1235

3

7. Как Вы двигаетесь, щадя окружающую среду ?

- При „зеленом“ всегда полностью ускоряться
- Своевременно сбрасывать газ, используя инерцию, когда ближайший светофор показывает „красный“
- Избегать ненужного ускорения или ненужного торможения

1506


3

8. На каких участках без установленных дорожных знаков, регулирующих преимущественный проезд, действует правило „правый перед левым“ ?

- На перекрестках дорог и примыкающих дорогах
- На примыкающих улицах с опущенным бордюром
- Где полевые и лесные дороги примыкают к другой улице

1312

5



9. Какое поведение правильно ?

- Можно пересечь перекресток
- Перед выездом на перекресток необходимо ждать дальнейших знаков регулировщика
- Поворачивать не разрешается

1293

4

10. Легкомысленно ли обгонять грузовой автопоезд непосредственно перед перекрестком ?

- Да, потому что грузовой автопоезд может закрыть обзор на важные дорожные знаки
- Да, потому что грузовой автопоезд закрывает обзор на боковое движение
- Нет, потому что грузовые автопоезда обычно движутся медленно

1072

5

11. Какие особенности проявляются при движении по аллеям в холодное время года ?

- Мокрая листва, а также иней, гололед, скользкий снег особенно опасны прежде всего на выпуклом профиле проезжей части
- Аллеи зимой особенно безопасны, т. к. кроны деревьев защищают улицу от снега
- На мощеной проезжей части появляются чаще и неожиданней иней и гололед, чем на других проезжих частях

1048

4

12. На каком минимальном расстоянии должно находиться поставленное на стоянку транспортное средство вне населенных пунктов от знака „Андреас-крест“ ?

Ответ: м

1212

2

13. При въезде в промышленный район стоит знак „Андреас-крест“ с дополнительной табличкой „Промышленный район, рельсовые транспортные средства имеют преимущество в движении“. На что Вы должны обратить внимание ?

- Автомобили имеют преимущество на железнодорожных переездах без знака „Андреас-крест“
- Подъезжать к железнодорожным переездам только на умеренной скорости
- Рельсовые транспортные средства имеют преимущество в движении на всех железнодорожных переездах

1232

3

14. На дороге с несколькими полосами движения в одном направлении заканчивается одна полоса движения. Как должны поступить водители на полосе с непрерывным движением ?

- Дать возможность перестроиться транспортным средствам, для которых создана помеха в движении, в другой ряд по принципу „застежки-молнии“
- Проехать мимо ждущих транспортных средств, при необходимости подать предупредительный сигнал

1166

3


15. Когда обгоняющий подвергнут опасности ?

Когда обгоняемый

- сильно уменьшает свою скорость
- вдруг ускоряет движение
- для обгона меняет полосу движения

1076

5



16. Какое действие является правильным ?

- Я должен пропустить мотоцикл
- Я могу проехать перед синим легковым автомобилем
- Я могу проехать перед мотоциклом

1348

5



17. Вы хотите с этой полевой дороги свернуть налево. Кто должен ждать ?

- Транспортное средство на дороге
- Я должен ждать

1345


5

18. Полицейский регулирует движение на перекрестке, на котором поставлены дорожные знаки, регулирующие преимущество проезда. Что действует ?

- Знаки полицейского
- Дорожные знаки, регулирующие преимущество проезда
- Правило „правый перед левым“

1284

4



19. На что указывает этот дорожный знак ?

- На перекресток
- На опасный участок
- На станцию первой медицинской помощи

1479

2



20. Какое значение имеет этот дорожный знак ?

- Он указывает на то, как необходимо поставить на стоянку транспортное средство
- Обочина недостаточно укреплена
- Он рекомендует стоянку на обочине

1481

2



21. На что указывает этот дорожный знак ?

- На конец автобана
- На конец скоростной дороги
- На запрет для автомобилей

2432 2

22. Что Вы должны принять во внимание при загрузке прицепа ?

- Груз
- должен быть надежно размещен
 - может выступать назад на самое большее 1 м за отражатели без дополнительного обозначения
 - может выступать вперед на самое большее 1 м перед тягачом транспортным средством

2688 3

23. Что Вы должны сделать после сцепления одноосного прицепа с тормозом наката ?

- Проверить работу тормоза
- Имеющееся опорное колесо привести в верхнее положение
- Отрывной канат навесить на сцепку для прицепа на автомобиле

2684 4

24. Вы движетесь со скоростью около 40 км/ч. Примерно в 10-ти м перед Вами светофор меняет „зеленый“ на „желтый“. Как Вы поступите ?

- Продолжить движение
- Остановиться

2411 4

25. Через какой период времени Ваше транспортное средство (не новое) с дизельным двигателем должно подвергаться проверке выхлопных газов ?

Каждые года

2475 2

26. Вы хотите встать на стоянку в месте, где установлен автомат для выдачи талонов на стоянку. Что Вы должны принять во внимание ?

- Действительный талон на стоянку так поместить в транспортном средстве, чтобы его можно было хорошо прочитать снаружи
- Если Вы используете указатель времени, то талон на стоянку никогда не нужен
- Не превышать указанное на талоне время стоянки

2202 2

27. Вы движетесь в темное время суток с дальним светом. Когда Вы должны включить ближний свет ?

- При встречном транспорте
- Когда впереди на близком от Вас расстоянии движется транспортное средство
- Когда пешеходы движутся впереди в том же направлении

2233 4

28. В темное время суток и при дожде на шоссе Вам навстречу движутся транспортные средства с ближним светом фар. Что Вы должны принять во внимание ?

- Включением дальнего света Вы можете избежать ослепления
- Вы можете быть ослеплены зеркальным отражением на мокрой проезжей части
- Из-за свилеватых следов на ветровом стекле ухудшается видимость

2048 4

29. Что Вы должны сделать днем при внезапно появившемся участке тумана ?

- Сразу соразмерить скорость с условиями видимости
- Включить только стояночный свет
- Включить ближний свет

2040 4

30. Какие особенности появляются при движении по аллеям ?

- Повороты часто узкие и непросматриваемые
- Деревья обеспечивают боковую защиту
- Небольшая ширина проезжей части и ее часто выпуклая форма принуждают при встречном транспорте к особой осторожности

2034 4