

Указание к учебной анкете: в поставленных вопросах с напечатанными ответами один или несколько ответов могут быть правильными. Правильные в каждом случае ответы следует отметить крестиком в отведённых для них соответствующих окнах. В вопросах, касающихся чисел или предельных значений, их следует поместить в предназначенные для этого окна.

RUSSISCH

Для заполнения заявителем

Фамилия:	Дата и год рождения:
Имя:	Дата ироведения экзамена:
Автошкола:	
Я заверяю, что на последующие вопросы отвечал сам и без применения вспомогательных средств.	
Подпись:	

Vom Fahrlehrer auszufüllen

Klasse	Fehlerpunkte/5-Punkte-Regel											
	A1	A	B	C1	C	CE	D1	D	M	L	T	S
Grundstoff												
Zusatzstoff												
Summe												
5-Punkte-Regel *												
bestanden												
nicht bestanden												
Bemerkungen:							geprüft von:					

* mehr als eine Frage mit Wertigkeit 5 falsch beantwortet

Перепечатка и размножение настоящей учебной анкеты или её частей запрещена и влечёт за собой судебную ответственность.

1. Как Вы должны поступить ?

- Продолжать осторожное движение мимо стоящего автомобиля, так как может внезапно появиться встречный транспорт
- Не замедляя, обогнать велосипедиста на уровне стоящего автомобиля
- Обогнать велосипедиста только после стоящего легкового автомобиля

1082

4



2. Почему Вам на этом участке нужно двигаться осторожно ?

- Так как дорога не просматривается
- Так как дорожное покрытие проезжей части является неравномерным
- Так как встречный транспорт может двигаться, слишком далеко взяв влево

1049

4



3. На что Вы должны рассчитывать ?

Мальчик

- может в следующий момент поехать
- возможно еще и посмотрит налево, но тем не менее поедет
- в любом случае Вас пропустит

1014

4





4. Как Вы должны поступить ?

- Продолжать двигаться с той же скоростью, потому что дети наверняка останутся стоять
- Продолжать двигаться с той же скоростью, чтобы не создавать помех движущимся сзади
- Сразу сильно затормозить и быть готовым продолжать торможение

1017

5

5. Что это может означать, если на транспортном средстве включен синий проблесковый маячок, но без сирены ?

- Предупреждается об опасности на месте дорожно-транспортного происшествия
- Отбуксирующее транспортное средство движется к месту вызова
- Предупреждается о месте вызова пожарной службы

1309

3

6. От чего зависит дистанция, поддерживаемая по отношению к движущемуся впереди транспортному средству ?

- От условий видимости
- От скорости движения
- От состояния проезжей части

1148

5

7. Два транспортных средства движутся навстречу друг другу и оба хотят повернуть налево. Как обычно в этом случае они должны поступить ?

- Они движутся по большой дуге и заворачивают друг за другом
- Они поворачивают друг перед другом

1176

3

8. Кто несет ответственность за безопасное в дорожном движении состояние допущенного к эксплуатации транспортного средства ?

- Водитель
- Владелец
- Обязательное страхование

1256

2



9. Вы хотите продолжить движение в прямом направлении. Как Вы поступите ?

- Снизить скорость, выдерживать дистанцию и при необходимости остановиться
- Ускориться и протиснуться между автомобилями
- При наличии достаточного свободного места в транспортном потоке перестроиться вправо

1200

4

10. Вы участвуете в круговом движении. Что необходимо учитывать ?

- Островок безопасности можно пересечь только если из-за размеров транспортного средства это является неизбежным
- При круговом движении остановка на проезжей части запрещена
- Выезд из кругового движения должен сигнализироваться посредством указателя поворота

1187

3

11. Какие транспортные средства имеют право остановиться во втором ряду рядом с другими транспортными средствами ?

- Все транспортные средства, если включена аварийная сигнализация
- Такси, чтобы дать выйти и войти пассажирам, если позволяет дорожное движение

1220

2

12. Вследствие чего тратится зря горючее и загрязняется окружающая среда ?

- Вследствие лихорадочной манеры вождения
- Когда при ожидании у светофора „играют педалью газа“
- Когда движение с горы производится на высокой ступени передачи

1502

3

13. Где запрещена остановка ?

- На железнодорожных переездах
- На узких и непросматриваемых участках улиц
- Непосредственно после пешеходных переходов

1201

3

14. Вы движетесь за пределами обозначенных границ населенных пунктов и хотите свернуть вправо на главную дорогу. На что Вы должны обратить внимание?

- При повороте направо я должен смотреть только влево
- Справа может приближаться обгоняющее транспортное средство

1353


5

15. По каким телефонным номерам Вы можете после аварии с пострадавшими связаться с полицией и скорой помощью или спасательной службой?

- 110 или 112
- 0130

1275

4




16. Какое действие является правильным ?

- Я должен ждать
- Желтый легковой автомобиль должен ждать

1347

5



17. Какое действие является правильным ?

- Я могу ехать первым
- Я должен пропустить красный легковой автомобиль
- Я должен пропустить трамвай

1330

5

18. Вы хотите повернуть налево. Какие могут возникнуть трудности ?

- Обзор движущихся навстречу транспортных средств, намеренных продолжать движение прямо, может быть закрыт движущимися навстречу транспортными средствами, намеренными повернуть налево
- При повороте друг перед другом вероятно блокирование перекрестка обоими, намеренными повернуть налево, транспортными средствами
- С движущимися навстречу, намеренными повернуть налево транспортными средствами, могут возникнуть опасные недоразумения

1178

3




19. Чего Вы должны избегать при так обозначенном опасном месте ?

- Сильного ускорения
- Неожиданных поворачивающих движений
- Малога расстояния к впереди движущемуся транспортному средству

1373

3




20. О чем Вам говорит этот дорожный знак ?

- Вам не разрешается продолжать движение прямо
- Вы находитесь на улице с односторонним движением
- Вы можете продолжать движение только прямо

1412

2



21. Какое значение имеют для Вас эти знаки ?

- Обе левые полосы мне разрешается использовать только для обгона
- Движение по обеим правым полосам разрешено
- Обе левые полосы мне не разрешается использовать

2410 4

22. Вы въезжаете в 10.40 ч в зону, где разрешено встать на стоянку на 2 часа с указателем времени. Какое время Вы поставите на указателе времени ?

- 13.00 ч
- 12.40 ч
- 11.00 ч

2201 2

23. Какие документы Вы, как водитель, должны иметь при себе ?

- Водительское удостоверение
- Паспорт о допущении транспортного средства к уличному движению
- Паспорт на владение транспортным средством

2504 2

24. Неожиданно Вам пришлось остановиться на пешеходном переходе. Как Вы поступите ?

- Наполовину заехать на тротуар, чтобы этим освободить переход
- Немного продвинуться вперед или назад, чтобы как можно больше освободить переход
- Ни в коем случае не двигаться назад, даже если сзади свободно

2392 4

25. Где запрещена остановка ?

- На автобанах и скоростных дорогах вне мест для стоянки
- На автобусных остановках
- В зоне крутых поворотов

2187 3

26. Почему Вы должны снизить скорость при сильном дожде ?

- Потому что увеличивается тормозной путь
- Потому что ухудшается видимость
- Потому что может появиться аквапланинг (скольжение по воде)

2030 5

27. Как Вы можете распознать во время движения неисправность указателя поворота ?

- Неисправность указателя поворота во время движения не распознать
- Контрольная лампа указателя поворота мигает быстрее, чем обычно

2786 2

28. На чем Вы можете увидеть, когда Вы должны представить Ваше транспортное средство к очередному основному техническому осмотру ?

- На плакетке техосмотра
- На счетчике километров
- По записи в паспорте о допущении транспортного средства к уличному движению

2471 2

29. Что можно сказать про водителей, которые из-за нехватки времени движутся слишком быстро и не соблюдают предписаний скорости ?

- К ним нужно отнестись снисходительно, так как они торопятся
- Нехватка времени не оправдание для несоблюдения правил дорожного движения

2101 4

30. Что Вы должны учитывать при выезде на автобан ?

- Проходящий транспорт имеет преимущественный проезд
- На полосе ускорения разрешается двигаться быстрее, чем на проходящей проезжей части
- Проходящий транспорт должен освободить правую полосу движения

2088 5