

Указание к учебной анкете: в поставленных вопросах с напечатанными ответами один или несколько ответов могут быть правильными. Правильные в каждом случае ответы следует отметить крестиком в отведённых для них соответствующих окнах. В вопросах, касающихся чисел или предельных значений, их следует поместить в предназначенные для этого окна.

RUSSISCH

Для заполнения заявителем

Фамилия:	Дата и год рождения:
Имя:	Дата и проведение экзамена:
Автошкола:	
Я заверяю, что на последующие вопросы отвечал сам и без применения вспомогательных средств.	
Подпись:	

Vom Fahrlehrer auszufüllen

Klasse	Fehlerpunkte/5-Punkte-Regel											
	A1	A	B	C1	C	CE	D1	D	M	L	T	S
Grundstoff												
Zusatzstoff												
Summe												
5-Punkte-Regel *												
bestanden												
nicht bestanden												
Bemerkungen:							geprüft von:					

* mehr als eine Frage mit Wertigkeit 5 falsch beantwortet

Перепечатка и размножение настоящей учебной анкеты или её частей запрещена и влечёт за собой судебную ответственность.

1. Какие транспортные средства имеют право проезжать здесь только с шаговой скоростью с учетом полной безопасности для пассажиров ?

Все транспортные средства, которые

- движутся в том же направлении
- движутся навстречу



4 (аварийная сигнализация включена)

1033

2. Какие опасности могут возникать в этом жилом районе ?

- Слишком быстрое движение
- Не замечаются примыкающие улицы
- Дети могут неожиданно выбежать на улицу



4

1069

3. Вы хотите повернуть направо. Как Вы поступите в этом случае ?

- Повернуть перед велосипедистом, так как моторизованный транспорт имеет преимущество
- Дать проехать велосипедисту, движущемуся прямо



4


1107



4. Что Вы должны учитывать на таких остановках ?

- Пешеходы иногда неосторожно покидают островок безопасности
- Пешеходы торопятся зачастую перейти проезжую часть, чтобы еще успеть к трамваю
- Пока открыты двери трамвая, проезд запрещен

1038 4



9. Кто должен сигнализировать об изменении в направлении движения ?

- Красный легковой автомобиль
- Я сам
- Синий грузовик

1184 3

5. Из движущегося непосредственно перед Вами полицейского автомобиля Вам показывают светящийся красный сигнальный диск. Что это значит ?

- Вас призывают повернуть
- Вы должны следовать за транспортным средством и остановиться за ним
- Вы не должны обращать внимание на этот знак

1292 3

10. От чего зависит тормозной путь ?

От состояния

- шин
- тормозной системы
- поверхности проезжей части

1141 3

6. Как Вы достигнете небольшого потребления горючего и как можно меньшего выброса вредных веществ ?

- Технически безупречным и правильно отрегулированным двигателем
- Умеренным режимом движения на низких оборотах
- Полными оборотами на всех передачах

1503 3

11. На транспортном средстве „подправлены“ двигатель и глушитель. Какие это может иметь последствия ?

- Увеличивается шум
- Увеличивается выхлоп вредных веществ
- Значительно уменьшается потребление горючего

1496 3

7. Где запрещена остановка ?

- Перед въездами и выездами со дворов или с земельных участков
- На полосах ускорения и замедления
- На маркированных полосах движения проезжей части со стрелками-указателями направления

1204 3

12. На что могут указывать красно-белые таблички на транспортных средствах ?

- На транспортное средство с опасным грузом
- На прицеп, поставленный в населенном пункте на проезжей части
- На сверхширокое транспортное средство

1488 3

8. Вы хотите пересечь улицу преимущественного проезда. Видимость в обе стороны сильно загорожена поставленными на стоянку транспортными средствами. Как Вы поступите ?

- Осторожно въехать в зону перекрестка
- Как можно быстрее переехать через перекресток
- Предупреждать сигналом пересекающий дорогу транспорт

1314 5

13. Пешеход хочет перейти проезжую часть по пешеходному переходу. Как Вы поступите ?

- Приблизиться на умеренной скорости, при необходимости ждать
- Мимо стоящих транспортных средств можно проехать
- Ни в коем случае не обгонять

1268 5

14. Как разлагается опьяняющее действующее вещество гашиша в теле ?

- Равномерно, по 0,1 промилле в час
- Неравномерно, по времени трудно определимо
- Равномерно, по 0,1 грамму в час

1129


4

15. Когда Вы должны ждать перед железнодорожным переездом ?

- Когда загорается красный мигающий свет
- Когда опускаются шлагбаумы
- Когда железнодорожный служащий машет бело-красно-белым флажком

1227

3



16. Какое действие является правильным ?

- Я должен ждать
- Велосипедист должен ждать

1324

5



17. Кто должен ждать ?

- Легковой автомобиль, выезжающий с полевой дороги
- Я должен ждать

1344

5

18. Два транспортных средства движутся навстречу друг другу и оба хотят повернуть налево. В каких случаях они не должны поворачивать налево друг перед другом ?

- Если движущийся навстречу останавливается непосредственно перед серединой перекрестка
- Если Вы увидите, что движущийся навстречу намерен поворачивать налево за Вами
- Если дорожная разметка это запрещает

1177

3




19. На что указывает этот дорожный знак ?

- На линию метро 3
- На пронумерованный объезд
- На пронумерованный подземный гараж

1486

2



20. Что означает этот дорожный знак ?

- Указание на наличие воздушных контактных проводов
- Рельсовый транспорт всегда имеет преимущество проезда
- Всегда следует ждать, если приближается рельсовый транспорт

1241

3



21. Впереди встает на стоянку легковой автомобиль. Движущийся перед Вами автомобиль отклоняется на левую полосу движения. Как Вы должны поступить ?

- Если дорожное движение позади Вас позволяет, также сменить полосу движения на левую
- Если сзади следуют обгоняющие транспортные средства, оставаться в правой полосе, двигаться медленно и при необходимости остановиться
- Дать звуковой сигнал и, не снижая скорости, втиснуться в левый ряд

2069 3

22. Вы ведете позади Вашего транспортного средства прицеп. Что правильно для заднего обзора ?

- Прицеп и груз не должны недопустимо закрывать обзор на движение сзади
- Сельскохозяйственным тягачам не обязательно устанавливать дополнительные зеркала
- Если из-за прицепа или груза невозможен достаточный обзор через зеркало заднего вида, то необходимо установить дополнительные зеркала заднего вида

2543 3

23. Какие последствия может иметь слишком высокое или слишком низкое давление воздуха в шинах ?

- Может удлиниться путь реакционный путь
- Могут ухудшиться ходовые характеристики
- Может увеличиться износ шин

2766 3

24. Вы имеете водительское удостоверение класса В. Ваш легковой автомобиль имеет следующие данные: – порожний вес 1900 кг – допустимый общий вес 2400 кг – допустимый прицепной груз 1500 кг Какой прицеп Вам разрешается вести с собой ?

- Прицеп с допустимым общим весом
- 1000 кг
 - 1200 кг
 - 1500 кг

2508 3

25. Где особенно часто возникает аквапланинг (скольжение по воде) ?

- В низинах проезжей части
- При продольных желобках на проезжей части
- На железнодорожных переездах

2035 5

26. С какой максимальной скоростью разрешается передвигаться грузовому автомобилю с допустимым общим весом 3,0 т и с прицепом на автобанах ?

Ответ: км/ч

2144 3

27. На автобане с тремя полосами движения образовался затор. Где следует создать проход для спасательных транспортных средств ?

- Между средней и правой полосами движения
- Между левой и средней полосами движения
- На боковой полосе

2262 4

28. Во время движения Вы замечаете, что Ваш легковой автомобиль постоянно тянет налево. Какие возможны причины ?

- Слишком мало воздуха в левом переднем колесе
- Неправильное регулирование колес на передней оси (колея, боковой наклон)
- Сильно изношена левая задняя шина

2676 3

29. За грузовым автомобилем образовалась колонна легковых автомобилей. Какой легковой автомобиль должен обгонять первым ?

- Последний легковой автомобиль колонны транспортных средств
- Первый легковой автомобиль за грузовым автомобилем

2173 3

30. На какой максимальной высоте должен находиться красный фонарь, обозначающий выступающий сзади груз ?

- 1,50 м
- 2,00 м
- 2,50 м

2307 3