

Указание к учебной анкете: в поставленных вопросах с напечатанными ответами один или несколько ответов могут быть правильными. Правильные в каждом случае ответы следует отметить крестиком в отведённых для них соответствующих окнах. В вопросах, касающихся чисел или предельных значений, их следует поместить в предназначенные для этого окна.

RUSSISCH

Для заполнения заявителем

Фамилия:	Дата и год рождения:
Имя:	Дата ироведения экзамена:
Автошкола:	
Я заверяю, что на последующие вопросы отвечал сам и без применения вспомогательных средств.	
Подпись:	

Vom Fahrlehrer auszufüllen


Klasse	Fehlerpunkte/5-Punkte-Regel											
	A1	A	B	C1	C	CE	D1	D	M	L	T	S
Grundstoff												
Zusatzstoff												
Summe												
5-Punkte-Regel *												
bestanden												
nicht bestanden												
Bemerkungen:							geprüft von:					

* mehr als eine Frage mit Wertigkeit 5 falsch beantwortet

Перепечатка и размножение настоящей учебной анкеты или её частей запрещена и влечёт за собой судебную ответственность.

1. Как Вы поступите в этой ситуации ?

- Остановиться, если безопасный проезд невозможен
- Без изменений продолжить движение, так как трактор должен ждать



1094 4

2. Как Вы должны поступить ?

- За детьми
- не надо наблюдать, так как они находятся на тротуаре
 - внимательно наблюдать и осторожно продолжать движение



1015 4

3. Какие транспортные средства имеют право проезжать здесь только с шаговой скоростью с учетом полной безопасности для пассажиров ?

- Все транспортные средства, которые
- движутся в том же направлении
 - движутся навстречу



(аварийная сигнализация включена)

1033 4



4. Когда поведение велосипедистки может стать для Вас опасным ?

Когда велосипедистка

- съедет на проезжую часть, не обращая внимания на движущийся транспорт
- остановится в конце велосипедной дорожки
- без разрешения продолжит движение по тротуару

1089

4

5. На что Вы должны рассчитывать, если грузовой автопоезд перед Вами хочет повернуть направо в узкую улицу ?

Он

- сильно снизит свою скорость
- сильно отклонится в правую сторону
- отклонится перед поворотом в левую сторону

1083

3

6. Вы первым достигли места аварии с пострадавшими. В каком порядке Вы осуществите Ваши действия ?

- Оказать первую помощь – вызвать спасательную службу – обезопасить место происшествия
- Обезопасить место происшествия – оказать первую помощь – вызвать спасательную службу
- Вызвать спасательную службу – обезопасить место происшествия – оказать первую помощь

1277

4

7. Перед Вами большой зерноуборочный комбайн хочет повернуть направо. Что правильно ?

Зерноуборочный комбайн

- при повороте отклонится далеко налево
- не может отклониться в сторону из-за рулевого управления задних колес
- перед поворотом движется очень медленно

1093

4

8. Какой режим движения ведет к высокому потреблению горючего ?

- Резкое трогание с места и ненужное ускорение
- Максимальное число оборотов для каждой передачи
- Движение на высокой скорости

1505

3



9. Для чего может быть использована правая укрепленная обочина ?

- Для остановки и стоянки
- Для обгона
- Для проезда медленных транспортных средств

1138

3

10. На каком минимальном расстоянии должно находиться поставленное на стоянку транспортное средство вне населенных пунктов от знака „Андреас-крест“ ?

Ответ: м

1212

2

11. Где Вы должны особенно принимать в расчет обледенение проезжей части ?

- На участках с интенсивным движением
- На мостах
- На участках, проходящих через лес

1047

4

12. По какой эмпирической формуле можно по скорости вычислить тормозной путь в метрах при обычном торможении ?

- $\frac{\text{Скорость в км/ч}}{10} \times \frac{\text{скорость в км/ч}}{10}$
- $\frac{\text{Скорость в км/ч}}{10} \times 5$
- $\frac{\text{Скорость в км/ч}}{10} \times 3$

1146

2

13. Что означают указания регулировщика ?

- Им следует подчиняться
- Им следует подчиняться только тогда, когда они совпадают с поставленными знаками дорожного движения
- Они освобождают от обязанности собственной осмотрительности

1285

4

14. Вы хотите обогнать велосипедиста. Достаточно ли при этом боковое расстояние в 50 см ?

- Да, если Вы перед этим подали предупредительный сигнал
- Нет, потому что велосипедист может внезапно отклониться в сторону
- Да, пока Вы едете не быстрее 40 км/ч

1073

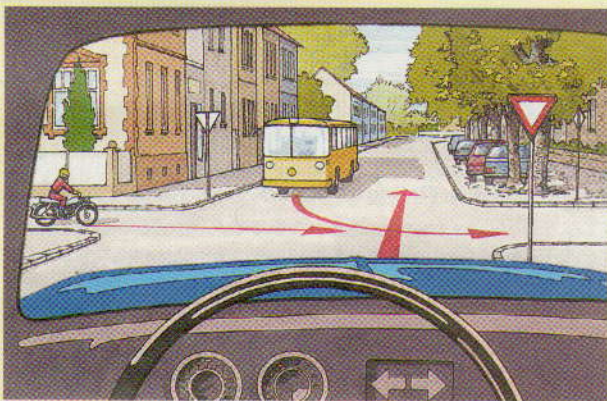
5

15. Что Вы должны сделать, если Вы хотите перестроиться в другой ряд ?

- Перед перестроением в другой ряд всегда сильно тормозить
- Своевременно сигнализировать о намерении перестроиться в другой ряд
- Следить за следующим позади транспортом

1164

4




16. Какое действие является правильным ?

- Я должен дать проехать мотоциклу
- Я проезжаю перед автобусом
- Я должен дать проехать автобусу

1328

5



17. Какое действие является правильным ?

- Я дам проехать синему грузовику
- Я дам проехать желтому легковому автомобилю
- Я могу повернуть перед желтым легковым автомобилем

1319

5

18. На дороге слева и справа рядом с проезжей частью имеются полосы для продольной стоянки. Где Вы можете встать на стоянку ?

- На дорогах в обоих направлениях движения – только на правой полосе для стоянки
- На дорогах с односторонним движением – на правой или левой полосах для стоянки
- На дорогах в обоих направлениях движения также на левой полосе для стоянки

1219

3



19. Что Вы должны принимать во внимание при виде этих дорожных знаков ?

- Вы должны двигаться как можно ближе к правому краю
- Вы можете встать на стоянку на прилегающем тротуаре
- Вы должны рассчитывать на плохую обочину проезжей части

1362

2



20. На что указывает этот дорожный знак ?

- На подземный железнодорожный переход
- На железнодорожный переезд без шлагбаума
- На железнодорожный переезд со шлагбаумом

1386

3



21. Как Вы должны поступить ?

- Воспользоваться общей максимально допустимой скоростью, так как не видно конкретной опасности
- Двигаться медленно, так как в любое время могут между стоящими транспортными средствами выбежать дети
- Двигаться медленно, так как на одном из транспортных средств в может открыться дверь со стороны проезжей части

2055 4

22. Звук выхлопа стал вдруг громче, чем обычно. Что Вы сделаете?

- Ничего, поскольку никто не подвергается опасности
- Перепроверите выхлопную систему
- Замените воздушный фильтр двигателя

2772 3

23. При движении по аллее Вы хотите обогнать. На что Вы должны обратить особое внимание?

- При переезде середины выпуклого профиля проезжей части меняется также наклон транспортного средства
- Из-за небольшой ширины проезжей части при встречном транспорте часто невозможно обогнать даже велосипедистов
- Транспортные средства с высокими кузовами часто объезжают толстые ветки, выступающие над проезжей частью

2042 4

24. Какие транспортные средства Вам разрешается водить с водительским удостоверением класса В с учетом допустимого груза прицепа ?

Комбинации из

- легкового автомобиля с допустимым общим весом 3500 кг и прицепа с допустимым общим весом 750 кг
- грузового автомобиля с допустимым общим весом 3500 кг и прицепа с допустимым общим весом 750 кг
- легкового автомобиля и прицепа, чей допустимый общий вес превышает порожний вес легкового автомобиля, пока сумма допустимых общих масс не превышает 3500 кг

2506 3

25. Что может привести к опасной недооценке собственной скорости ?

- Длительная езда с высокой скоростью
- Движение по широкой, хорошей дороге
- Сильный шум двигателя и шин

2053 4

26. Сколько прицепов разрешается вести за грузовым автомобилем класса „В“ ?

Ответ: приц.

2535 2

27. Вы хотите сцепить прицеп с шаровым сцеплением. Что правильно ?

- Сцепной обхват должен надежно охватить шаровую головку. Предохранитель должен защелкнуться
- Установить опорное колесо так, чтобы оно могло крутиться вместе с другими колесами во время движения
- Должно быть выполнено электрическое соединение

2683 4

28. Чего следует достичь участием в восстановительном семинаре во время пробного срока ?

- Более осмотрительного и сознающего риск отношения к дорожному движению
- Улучшенного распознавания опасностей
- Сокращения пунктов в центральном дорожном реестре

2959 2

29. Что необходимо принять во внимание при отбуксировании ?

- Мотоциклы можно отбуксировать только жестким соединением
- Расстояние между транспортными средствами не должно превышать 5 м
- Буксировочный трос или штанга должны быть заметно обозначены

2225 3

30. Вы движетесь в потоке городского транспорта по сухой проезжей части в колонне, передвигающейся со скоростью 50 км/ч. Какое минимальное безопасное расстояние к впереди движущемуся транспортному средству Вы должны соблюдать ?

- 15 м соответствуют примерно 3-м длинам легкового автомобиля
- 10 м соответствуют примерно 2-м длинам легкового автомобиля
- 5 м соответствуют примерно 1-ой длине легкового автомобиля

2159 4