

Указание к учебной анкете: в поставленных вопросах с напечатанными ответами один или несколько ответов могут быть правильными. Правильные в каждом случае ответы следует отметить крестиком в отведённых для них соответствующих окнах. В вопросах, касающихся чисел или предельных значений, их следует поместить в предназначенные для этого окна.

RUSSISCH

Для заполнения заявителем

Фамилия:	Дата и год рождения:
Имя:	Дата ириведения экзамена:
Автошкола:	
Я заверяю, что на последующие вопросы отвечал сам и без применения вспомогательных средств.	
Подпись:	

Vom Fahrlehrer auszufüllen

Klasse	Fehlerpunkte/5-Punkte-Regel											
	A1	A	B	C1	C	CE	D1	D	M	L	T	S
Grundstoff												
Zusatzstoff												
Summe												
5-Punkte-Regel *												
bestanden												
nicht bestanden												
Bemerkungen:							geprüft von:					

* mehr als eine Frage mit Wertigkeit 5 falsch beantwortet

Перепечатка и размножение настоящей учебной анкеты или её частей запрещена и влечёт за собой судебную ответственность.

1. Что Вы должны учитывать в этой ситуации ?

- Вы можете проезжать только с шаговой скоростью
- Вы ни в коем случае не можете проезжать
- Вы можете проезжать только тогда, когда исключено создание опасности пассажирам



4 (Аварийная сигнализация включена)

1042

2. Какие опасности могут возникать в этом жилом районе ?

- Слишком быстрое движение
- Не замечаются примыкающие улицы
- Дети могут неожиданно выбежать на улицу



4

1069

3. Почему Вы должны быть здесь особенно осторожны ?

- Потому что при торможении существует повышенная опасность скольжения
- Потому что справа может появиться транспортное средство
- Потому что движущийся слева автомобиль имеет преимущество



3

1088



4. Что Вы должны иметь в виду ?

- Что неожиданно появится встречный транспорт
- Что водитель грузовика вдруг спрыгнет на проезжую часть
- Что дорожные знаки загорожены грузовиком

1086

3

5. Вы хотите въехать из ряда стоящих на стоянке транспортных средств в поток проходящего транспорта. Позади Вас стоит на стоянке грузовой автопоезд. Как Вы оцените эту ситуацию ?

- Въезд в транспортный поток в данном месте безопасен, потому что Вы находитесь под прикрытием стоящего сзади Вас грузового автопоезда
- Из-за закрытого обзора Вы можете слишком поздно увидеть приближающиеся транспортные средства
- Из-за закрытого обзора приближающиеся сзади транспортные средства могут слишком поздно увидеть Ваше транспортное средство

1090

3

6. Чем может быть вызвана угроза безопасности ?

- Вынужденной остановкой транспортных средств, которые не ограждены согласно инструкции
- Включением освещения в дневное время
- Слишком высокой скоростью

1007

4

7. Вы видите перед собой место дорожно-транспортного происшествия. Что Вы сделаете?

- Немедленно снизите скорость
- Не замедляясь, продолжите движение
- Включите аварийную световую сигнализацию

1280


4

8. Как Вы можете попросить помощь на автобане?

- В „зонах отдыха“ на автобанах
- Посредством столбиков с устройством экстренной связи
- По телефону 112 или 110

1281

3



9. Какое действие является правильным ?

- Желтый легковой автомобиль должен освободить перекресток
- Я должен подготовиться продолжать движение дальше
- Я могу уже сейчас повернуть

1286

4

10. Какое транспортное средство должно ждать, если одна половина проезжей части закрыта из-за строительных работ ?

- Транспортное средство на свободной половине проезжей части
- Транспортное средство, на чьей стороне находится строительная площадка
- Всегда меньшее транспортное средство

1162

3

11. Посредством чего Вы можете беречь окружающую среду и экономить горючее при длительном ожидании у опущенных железнодорожных шлагбаумов ?

- Посредством отключения двигателя
- Посредством включения холостого хода

1490

3

12. Что это может означать, если на транспортном средстве включен синий проблесковый маячок, но без sireны ?

- Отбуксирующее транспортное средство движется к месту вызова
- Предупреждается об опасности на месте дорожно-транспортного происшествия
- Предупреждается о месте вызова пожарной службы

1309

3

13. Из Вашего транспортного средства вытекает немного масла. Какое количество питьевой воды может привести в негодность уже одна такая капля ?

- До
- 600-т литров
- 50-ти литров
- 1-го литра

1494

4

14. Каким транспортным средствам Вы должны дать возможность для выезда с остановок ?

- Маршрутным автобусам
- Школьным автобусам
- Такси


1246 3

15. Велосипедная дорожка, по которой едет группа детей, заканчивается. На что следует рассчитывать?

Что дети

- сойдут с велосипедов и ждут, пока все освободится
- не задумываясь, выезжают на полосу движения
- слишком далеко выезжают на полосу движения


1031 4



16. Какое действие является правильным ?

- Я должен пропустить мотоцикл
- Я могу проехать перед синим легковым автомобилем
- Я могу проехать перед мотоциклом

1348 5



17. Какое действие является правильным ?

- Я должен пропустить трамвай
- Я должен пропустить трактор
- Я могу повернуть перед трамваем

1332 5

18. Какое значение имеют оранжевые предупредительные таблички на транспортном средстве ?

- Перевозка
- животных
 - опасных грузов
 - быстропортящихся пищевых продуктов

1255 3



19. Что действует после этого дорожного знака ?

- Двигаться самое быстрое с шаговой скоростью
- Стоянка во время покупок повсюду разрешена
- Обращать внимание на играющих детей

1455 4



20. О чем предупреждает этот дорожный знак ?

- О неожиданной опасности лавины
- О неожиданном гололеде
- О неожиданном скользком снеге

1370 3



21. Что означает это предупреждающее указание?

На обозначенном таким образом сидении рядом с водителем с готовой к эксплуатации воздушной подушкой

- не разрешается устанавливать детское сидение противоположно направлению движения
- разрешается устанавливать детское сидение только в направлении движения
- необходимо установить детское сидение в изображенном виде

2287 4

22. Перед Вами движется грузовой автопоезд со включенным правым сигналом поворота. Сзади Вас образовалась колонна. Сзади Вас торопит нетерпеливый водитель легкового автомобиля. Что Вы можете сделать ?

- Я обгоняю только тогда, когда я сам окончательно уверен, что дорожная ситуация позволяет безопасный обгон
- Я увеличиваю расстояние до грузового автопоезда, чтобы облегчить обгон торопящемуся водителю
- Я обгоняю, так как я предполагаю, что водитель грузового автомобиля хочет дать мне знак для обгона

2115 4

23. Для каких транспортных средств в населенном пункте действует право свободного выбора полосы движения ?

Для всех транспортных средств с допустимым общим весом до

Ответ: т

2179 3

24. Как гласит эмпирическая формула для расчета тормозного пути при экстренном торможении на ровной, сухой и асфальтированной проезжей части?

- $\left(\frac{\text{Скорость в км/ч}}{10} \times 5 \right) : 2$
- $\left(\frac{\text{Скорость в км/ч}}{10} \times 3 \right) : 2$
- $\left(\frac{\text{Скорость в км/ч}}{10} \times \frac{\text{Скорость в км/ч}}{10} \right) : 2$

2137 4

25. Где Вам разрешается применять световой предупредительный сигнал для сигнализации обгона ?

- Днем вне населенного пункта
- В темное время суток в населенном пункте
- В темное время суток вне населенного пункта

2226 2

26. Перед какими дорожными знаками Вам разрешается останавливаться не менее, чем за 10 м, если бы они были бы закрыты Вашим транспортным средством ?

- Андреас-крест
- Стоп! Уступите дорогу
- Остановка запрещена

2193 3

27. Как Вам разрешается в Вашем легковом автомобиле взять с собой маленького ребенка ?

- На коленях взрослого человека
- На задних сидениях в носильной сумке для грудных детей
- В подходящем для ребенка сидении с опорой и со знаком технического контроля

2278 4

28. На что необходимо обратить внимание на транспортном средстве с брезентом ?

- Брезент не должен закрывать водителю видимость назад через внешние зеркала
- Транспортные средства с брезентом не нуждаются в особом закреплении груза
- Незагруженные прицепы с высокими бортами, покрытыми брезентом, особенно чувствительны к боковому ветру

2368 3

29. Когда на сухой прямой улице быстро движущийся легковой автомобиль может занести в сторону ?

- Когда он неожиданно будет захвачен сильным боковым ветром
- Когда неожиданно появится встречный ветер
- Когда лопнет шина

2071 3

30. Вы движетесь вне населенного пункта по улице с тремя маркированными полосами движения в каждую сторону. По правой полосе движения на больших расстояниях друг от друга движутся отдельные более медленные транспортные средства. Какую полосу движения Вам разрешается постоянно использовать ?

- Среднюю
- Левую

2121 3