

Указание к учебной анкете: в поставленных вопросах с напечатанными ответами один или несколько ответов могут быть правильными. Правильные в каждом случае ответы следует отметить крестиком в отведённых для них соответствующих окнах. В вопросах, касающихся чисел или предельных значений, их следует поместить в предназначенные для этого окна.

RUSSISCH

Для заполнения заявителем

Фамилия:	Дата и год рождения:
Имя:	Дата ириведения экзамена:
Автошкола:	
Я заверяю, что на последующие вопросы отвечал сам и без применения вспомогательных средств.	
Подпись:	

Перепечатка и размножение настоящей учебной анкеты или её частей запрещена и влечёт за собой судебную ответственность.

1. Разрешено ли Вам здесь встать на стоянку ?

Да, как инвалиду с официальным разрешением на стоянку

Для быстрого совершения покупок

Да, как сопровождающему слепого с официальным разрешением на стоянку




1469 2

2. Что Вы должны принимать в расчет при виде этого дорожного знака ?

Суженную проезжую часть длиной 50 м

Суженную проезжую часть примерно через 50 м

Участок объезда через 50 м




1375 2

3. Каким транспортным средствам не разрешается двигаться по обозначенной таким образом дороге ?

Мотоциклам

Грузовым автомобилям

Легковым автомобилям




1425 2

4. В каких направлениях Вы можете продолжать движение ?

Прямо

Направо

Налеву



1397 2

Vom Fahrlehrer auszufüllen

Fehlerpunkte/5-Punkte-Regel

Klasse	A1	A	B	C1	C	CE	D1	D	M	L	T	S
Grundstoff												
Zusatzstoff												
Summe												
5-Punkte-Regel *												
bestanden												
nicht bestanden												
Bemerkungen:	geprüft von:											

* mehr als eine Frage mit Wertigkeit 5 falsch beantwortet

5. Что следует после этого дорожного знака ?

Спуск через 800 м

Спуск протяженностью 800 м

Подъем через 800 м



1366 2

6. Что разрешается на главных дорогах вне населенного пункта ?

Остановка на правом краю дороги

Стоянка на обочине

Стоянка на проезжей части



1463 3

7. На что указывает этот дорожный знак ?

На запрет для всадников

На дорожку для всадников, запрещенную для других участников движения

На дорожку, которой должны пользоваться всадники



1419 2

8. Вы приближаетесь к следующей комбинации знаков дорожного движения. На что следует обратить внимание ?

При входе в круговое движение необходимо включить указатель поворота

Участники кругового движения имеют преимущество в проезде

Выезд из кругового движения должен сигнализироваться включением указателя поворота



1448 4



9. Вы хотите обгонять. Как Вы поступите ?

- Вы можете пересечь только прерывистую линию
- Вы можете пересечь обе линии, если тем самым никто не подвергается опасности
- Вам не разрешается пересекать ни одну из этих линий

1446

3



13. Какое поведение правильно на улицах с такой защитной полосой для велосипедистов?

- Вам ни в коем случае не разрешается наезжать на защитную полосу
- Вам разрешается при необходимости пересечь эту разметку, если исключена опасность для велосипедистов
- Вам разрешается использовать защитную полосу для стоянки

1459

3

10. Вы проезжаете вне населенного пункта мимо этого дорожного знака. На каком расстоянии следует ожидать опасный участок ?

- Между 50 м и 150 м
- Между 150 м и 250 м
- Между 250 м и 350 м




1361

2

14. О чем Вам говорит этот дорожный знак ?

- Вам не разрешается продолжать движение прямо
- Вы можете продолжать движение только прямо
- Вы находитесь на улице с односторонним движением



1412

2

11. На что Вы здесь должны рассчитывать ?

- Что поток транспорта будет остановлен, чтобы пропустить детей через улицу
- Что дети здесь под присмотром играют на проезжей части
- Что дети здесь, чаще чем обычно, перебегают через проезжую часть



1458

3

15. Что Вы должны иметь в виду при этом дорожном знаке ?

- Что
 - на проезжей части проводятся занятия зимними видами спорта
 - зимними видами спорта занимаются только на тротуарах
 - на проезжей части гололед или она покрыта снегом



1363

3

12. Что Вы должны сделать при виде этого дорожного знака ?

- Остановиться у стоп-линии, а при необходимости вновь остановиться у линии видимости
- Если нет стоп-линии, остановиться у линии видимости
- Остановиться только тогда, когда на поперечной дороге появится транспорт



1394

4

16. На что указывает этот дорожный знак ?

- На линию метро 3
- На пронумерованный объезд
- На пронумерованный подземный гараж



1486

2

17. Какого действия требует от Вас этот дорожный знак ?



- Наивысшего внимания
- Готовности затормозить
- Снижения скорости

1359

5

22. На что указывает этот дорожный знак ?



- На железнодорожный переезд со шлагбаумом примерно через 240 м
- На железнодорожный переезд без шлагбаума примерно через 240 м
- На железнодорожный переезд без шлагбаума примерно через 80 м

1389

2

18. Как Вы поступите при виде этого дорожного знака ?



- До достижения сужения всегда останавливаться
- Уменьшить скорость
- Больше не обгонять

1374

3

23. Каким транспортным средствам разрешено здесь встать на стоянку ?




- Транспортным средствам с разрешенным общим весом более 3,5 т
- Транспортным средствам с разрешенным общим весом до 2,8 т
- Мотоциклам

1471

2

19. О чем извещают эти дорожные знаки ?



- Через 100 м повторно появится дорожный знак „Уступите дорогу“
- Через 100 м находится стоп-шиит
- Через 100 м можно, не останавливаясь, продолжать движение

1408

3

24. На что указывает этот дорожный знак ?



- На подземный переезд
- На тупик
- На закрытую для движения транспортных средств дорогу

1478

2

20. Какое значение имеет этот дорожный знак ?



- Обочины для транспортных средств с разрешенным общим весом более 3,5 т недостаточно укреплены
- Он предупреждает не использовать обочины для автопоездов
- Он показывает, как здесь должны встать на стоянку грузовые автомобили

1482

2

25. На что Вы должны рассчитывать при этом дорожном знаке ?



- На въезд или выезд к территории аэропорта
- На неожиданно возникающий шум от самолетов
- На отвлечение других участников дорожного движения

1384

2

21. Вы видите этот дорожный знак. На что Вы должны рассчитывать ?



- На встречный транспорт
- На преимущество в движении встречного транспорта
- На ослепление встречным транспортом ночью

1358

3

26. На что указывает этот дорожный знак ?



- Здесь начинается зона – с предписанной минимальной скоростью 30 км/ч
- с рекомендованной скоростью 30 км/ч
- с допустимой максимальной скоростью 30 км/ч

1431

3

27. Какие транспортные средства Вы можете обгонять при наличии этого дорожного знака ?

- Мотоцикл с коляской
- Легковые автомобили
- Мотоцикл без коляски



1436

3

28. Как Вы поступите при виде этого дорожного знака ?

- Сразу после правого поворота сильно ускорить движение
- Уменьшить скорость
- Двигаться как можно правее



1365

3

29. На что указывает этот дорожный знак ?

- На железнодорожный переезд примерно через 80 м
- На железнодорожный переезд примерно через 160 м
- На железнодорожный переезд примерно через 240 м



1390

2

30. О чем предупреждает данный дорожный знак ?

- На опасность заноса на загрязненной проезжей части
- На опасность заноса на мокрой проезжей части
- На находящихся под воздействием алкоголя водителей автомобилей



1372

3

31. Какой наивысшей скоростью, предусмотренной техническим исполнением, должно, как минимум, обладать транспортное средство, если оно хочет участвовать в движении на этой дороге ?

- 51 км/ч
- 61 км/ч
- 81 км/ч



1475

3

32. Как Вы поступите при виде этого дорожного знака ?

- Вам не разрешается двигаться быстрее, чем 60 км/ч
- Вы должны двигаться по меньшей мере со скоростью 60 км/ч, если Вы не должны двигаться медленнее по причине безопасности дорожного движения
- Вам не разрешается пользоваться этой улицей, если Вы не можете или Вам не разрешается двигаться быстрее, чем 60 км/ч



1435

3

33. Как Вы поступите, выезжая зимой на обозначенную таким образом улицу ?

- Если необходимо, двигаться с шаговой скоростью
- Наблюдать за спортсменами, занимающимися зимним спортом
- Как жителю, Вам не надо на проезжей части обращать особого внимания на спортсменов, занимающихся зимним спортом



1424

2

34. Как должен вести себя на этой улице водитель транспортного средства ?

- Он может двигаться только с шаговой скоростью
- Он должен обратить особенное внимание на пешеходов
- Если близко не видно пешеходов, можно двигаться быстрее, чем с шаговой скоростью




1420

3

35. Перед железнодорожным переездом перед примыкающей справа дорогой стоит красный мигающий световой сигнал без знака „Андреас-крест“. Где Вы должны ждать ?

- У стоп-линии
- Если стоп-линии не имеется, перед световым сигналом
- После наблюдения за дорожной ситуацией я могу проехать до железнодорожного переезда



1242

3