

Указание к учебной анкете: в поставленных вопросах с напечатанными ответами один или несколько ответов могут быть правильными. Правильные в каждом случае ответы следует отметить крестиком в отведённых для них соответствующих окнах. В вопросах, касающихся чисел или предельных значений, их следует поместить в предназначенные для этого окна.

RUSSISCH

## Для заполнения заявителем

Фамилия:	Дата и год рождения:
Имя:	Дата ироведения экзамена:
Автошкола:	
Я заверяю, что на последующие вопросы отвечал сам и без применения вспомогательных средств.	
Подпись:	

Перепечатка и размножение настоящей учебной анкеты или её частей запрещена и влечёт за собой судебную ответственность.

## Vom Fahrlehrer auszufüllen

### Fehlerpunkte/5-Punkte-Regel

Klasse	A1	A	B	C1	C	CE	D1	D	M	L	T	S
Grundstoff												
Zusatzstoff												
Summe												
5-Punkte-Regel *												
bestanden												
nicht bestanden												
Bemerkungen:	geprüft von:											

\* mehr als eine Frage mit Wertigkeit 5 falsch beantwortet

1. Как Вы поступите при виде этого дорожного знака ?

- Продолжать движение, если не приближается поезд
- Пронаблюдать, возможно ли движение по мосту
- Остановиться, если мост поднят




1379

2

2. Каким транспортным средствам не разрешается пользоваться этой улицей ?

- Ручным транспортным средствам
- Транспортным средствам всех видов
- Ведомым мотоциклам и велосипедам




1402

3

3. Что Вам говорит этот знак ?

- Запрет стоянки вне населенных пунктов
- Главная дорога
- Скоростная дорога



1462

3

4. Как Вы поступите при виде этого дорожного знака ?

- Вам не разрешается продолжать движение направо
- Вы должны включить указатель правого поворота
- Вы можете продолжать движение только направо



1411

2

5. Что Вы должны принять во внимание при виде этого дорожного знака ?

- Вы можете остановиться для погрузки или разгрузки
- Вы можете остановиться, чтобы дать выйти пассажирам
- Вам не разрешается останавливаться



1405

3

6. На что Вы должны обратить внимание при виде этого дорожного знака ?

- С этой улицы могут выехать транспортные средства
- Вы можете въехать на эту улицу
- Вам не разрешается въезжать на эту улицу



1404

3

7. Кому разрешается движение по этой улице на транспортном средстве ?

- Кто хочет кого-то посетить
- Кто должен доставить товары
- Кто хочет что-то купить



1421

3

8. На что указывает этот дорожный знак ?

- На железнодорожный переезд со шлагбаумом
- На железнодорожный переезд без шлагбаума
- На строительный забор, который сужает проезжую часть



1385

2





9. Что Вы должны соблюдать при этой линии посередине проезжей части ?

- Пересекать линию  
– Вам разрешается только тогда, когда это позволяет встречный транспорт
- или заезжать на нее Вам не разрешается
- Вам разрешается только при обгоне

1444

4



13. Когда Вы должны включать указатель поворота?

- При входе в круговое движение
- При выходе из кругового движения

1447

3

10. Что здесь заканчивается ?

- Зона с абсолютным запретом остановки
- Зона с ограниченным запретом остановки
- Предыдущие дорожные запреты



1443

2

14. Что означает этот дорожный знак ?

- Начало населенного пункта
- Конец населенного пункта
- Начало объезда



1467

2

11. Что Вы должны учитывать при виде этого дорожного знака ?

- При длительном нажатии на педаль тормоза эффективность торможения снижается
- Тормозной путь на спуске длиннее, чем на ровной местности
- Эффективность торможения будет лучше, если не включена передача



1355

3

15. На что указывает этот дорожный знак ?

- На место стоянки и отдыха на автобанах
- На место стоянки с остановкой для общественного транспорта
- На маркированные стояночные площадки, на которые можно заехать только задним ходом



1472

2

12. На что Вы должны рассчитывать при этом дорожном знаке ?

- На запрещение движения для велосипедистов
- На велосипедистов, пересекающих проезжую часть
- На подземный переход для велосипедистов



1360

4

16. На что Вы должны рассчитывать при этом дорожном знаке ?

- На путников, которые поставили здесь свое транспортное средство
- На школьных регулировщиков, управляющих движением
- На транспортные средства, выезжающие с места стоянки



1473

2



17. Каким транспортным средствам не разрешается двигаться по обозначенной таким образом улице ?



Легковым автомобилям

Мотоциклам

Грузовым автомобилям

1427

2

22. На что указывает этот дорожный знак ?



На радиостанцию

На пункт технического обслуживания

На наблюдательную вышку

1480

2

18. На что указывает этот дорожный знак ?



На станцию первой медицинской помощи

На перекресток

На опасный участок

1479

2

23. Что разрешается этими дорожными знаками ?



С талоном на стоянку из автомата здесь может любой встать на стоянку неограничено

Остановка для любого с целью посадки или высадки

Здесь могут встать на стоянку инвалиды с соответствующим пронумерованным удостоверением на стоянку

1407

2

19. Как Вы должны поступить, приближаясь к этому дорожному знаку ?



Увеличить скорость

Уменьшить скорость

С помощью быстрых поворачивающих движений объезжать неровности

1368

2

24. На что указывают эти дорожные знаки ?



На объезд, обходящий железнодорожный переезд


На железнодорожный переезд на дороге, ведущей направо

На направление, из которого может появиться поезд

1387

2

20. Что следует принимать во внимание при этом дорожном знаке ?



Вам не разрешается повернуть направо или продолжить движение прямо

Вы остаетесь на главной дороге, если Вы поворачиваете налево

Вы должны учитывать преимущество движущихся справа транспортных средств, если Вы хотите продолжить движение прямо

1453

4

25. Что означает этот дорожный знак ?



Указание на наличие воздушных контактных проводов

Рельсовый транспорт всегда имеет преимущество проезда

Всегда следует ждать, если приближается рельсовый транспорт

1241

3

21. Какие транспортные средства могут пользоваться специальными полосами движения, обозначенными таким образом ?



Маршрутные автобусы

Грузовые автомобили

Легковые автомобили

1422

2

26. На что указывает этот дорожный знак ?



Не разрешается двигаться со скоростью более 35 км/ч

Необходимо двигаться со скоростью не менее 35 км/ч

На федеральную дорогу

1485

2



27. На чем здесь нельзя передвигаться ?

- На маленьких мотоциклах
- На легких мотоциклах
- На мопедах




1403

2

28. На что указывает этот дорожный знак ?

- На таможню
- На светофор
- На железнодорожный переезд с красным мигающим светом



1381

2

29. На что указывает этот дорожный знак ?

- На конец зоны с
  - рекомендованной скоростью 30 км/ч
  - допустимой максимальной скоростью 30 км/ч
  - предписанной минимальной скоростью 30 км/ч



1433

2

30. Примерно в 80-ти метрах перед Вами на проезжей части останавливается школьный автобус. Могут ли из этого возникнуть опасности ?

- Нет, так как на каждой автобусной остановке школьные регулировщики следят за движением
- Да, так как дети часто перебегают дорогу, чтобы еще успеть к автобусу
- Да, так как дети не всегда пересекают проезжую часть самым коротким путем



1416

5

31. Как Вы должны поступить при данной комбинации дорожных знаков ?

- Выезд из кругового движения должен сигнализироваться правым указателем поворота
- При въезде в круговое движение необходимо учитывать преимущественное право проезда участников кругового движения
- Предписан въезд налево



1451

4

32. На что указывает этот дорожный знак ?

- На железнодорожный переезд со шлагбаумом примерно через 80 м
- На железнодорожный переезд без шлагбаума примерно через 240 м
- На железнодорожный переезд со шлагбаумом примерно через 240 м



1388

2

33. Какой дорожный знак дает преимущество проезда ?

- Дорожный знак 1
- Дорожный знак 2
- Дорожный знак 3



1454

3

34. Что Вы должны принять во внимание при этом дорожном знаке ?

- Вы не имеете права двигаться на транспортном средстве в пешеходной зоне
- Как проживающий в этой пешеходной зоне, Вы можете передвигаться в ней на транспортном средстве
- Вы можете двигаться в этой пешеходной зоне на транспортном средстве с шаговой скоростью



1401

4

35. Как Вы поступите при виде этого дорожного знака ?

- Если Вы при движении в две полосы в одном направлении движетесь по левой полосе, то Вы имеете преимущество проезда
- Уступить дорогу встречному транспорту
- При движении в две полосы в одном направлении применять принцип „застежки-молнии“



1357

3