

Указание к учебной анкете: в поставленных вопросах с напечатанными ответами один или несколько ответов могут быть правильными. Правильные в каждом случае ответы следует отметить крестиком в отведённых для них соответствующих окнах. В вопросах, касающихся чисел или предельных значений, их следует поместить в предназначенные для этого окна.

Vom Fahrlehrer auszufüllen

Fehlerpunkte/5-Punkte-Regel

Klasse	A1	A	B	C1	C	CE	D1	D	M	L	T	S
Grundstoff												
Zusatzstoff												
Summe												
5-Punkte-Regel *												
bestanden												
nicht bestanden												
Bemerkungen:							geprüft von:					

* mehr als eine Frage mit Wertigkeit 5 falsch beantwortet

Для заполнения заявителем

Фамилия: _____ Дата и год рождения: _____

Имя: _____ Дата ирождения экзамена: _____

Автошкола: _____

Я заверяю, что на последующие вопросы отвечал сам и без применения вспомогательных средств.

Подпись: _____

Перепечатка и размножение настоящей учебной анкеты или её частей запрещена и влечёт за собой судебную ответственность.

1. Что Вам говорит этот дорожный знак?

- Вам не разрешается здесь поворачивать налево
- Вам не разрешается здесь разворачиваться
- Вы находитесь в тупике и должны вернуться



1429 2

5. Что действует после этого дорожного знака?

- Стоянка во время покупок повсюду разрешена
- Обращать внимание на играющих детей
- Двигаться самое быстро с шаговой скоростью



1455 4

2. На что Вы должны рассчитывать при этом дорожном знаке?

- На появление диких животных
- На сильно загрязненную проезжую часть
- На пасущийся скот на проезжей части



1383 3

6. О чем предупреждает этот дорожный знак?

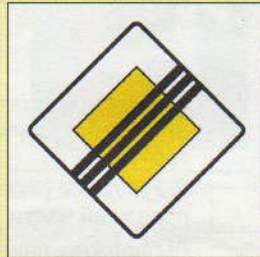
- О неожиданном гололеде
- О неожиданной опасности лавины
- О неожиданном скользком снеге



1370 3

3. Что здесь заканчивается?

- Предыдущие запреты на этом участке
- Запрет остановки в зоне
- Главная улица



1465 3

7. Что Вам говорит этот дорожный знак?

- Следует
- сильный подъем
 - крутой правый поворот
 - перекресток с поворачивающей главной улицей



1364 3

4. Как Вы поступите при виде этого дорожного знака?

- Вы должны показать изменение в направлении движения вправо
- Вам нельзя поворачивать направо
- Вы можете продолжать движение только направо



1395 2

8. На что указывают эти дорожные знаки?

- На запрет обгона, начинающийся через 200 м
- На запрет обгона протяженностью 200 м
- На запрет обгона, заканчивающийся через 200 м



1438 3



9. Что здесь следует учитывать (не улица с преимущественным проездом) ?

- Разрешается встать на стоянку только тогда, когда между поставленным на стоянку транспортным средством и средней линией остается полоса для движения по меньшей мере в 3 м
- Среднюю линию можно пересечь только тогда, когда это позволяет встречный транспорт
- Транспортным средствам не разрешается пересекать среднюю линию или заезжать на нее

1445

4

10. Здесь начинается торговая зона с малым движением. Как Вы должны поступить ?

- Особенно обращать внимание на оживленное движение пешеходов
- Учитывать наибольшую продолжительность стоянки
- Придерживаться минимальной скорости 20 км/ч




1432

2

11. Как Вы должны поступить при виде этого дорожного знака ?

- Вы не можете перед этим знаком повернуть налево
- Вы должны объезжать островки безопасности с правой стороны
- Вы обязаны повернуть направо



1398

2

12. Каким транспортным средствам не разрешается двигаться по обозначенной таким образом дороге ?

- Велосипедам
- Мотоциклам
- Легковым автомобилям



1426

2



13. В каких случаях Вам разрешается пересекать среднюю линию ?

- Ни в коем случае
- Чтобы проехать мимо препятствия
- Чтобы обогнать

1476

3

14. На что указывает этот дорожный знак ?

- На преимущество в движении – до конца населенного пункта
- только на ближайшем перекрестке или примыкающей дороге
- на всех перекрестках и примыкающих дорогах этой улицы



1452

3

15. Что Вы должны принимать во внимание при виде этих дорожных знаков ?

- Вы можете встать на стоянку на прилегающем тротуаре
- Вы должны рассчитывать на плохую обочину проезжей части
- Вы должны двигаться как можно ближе к правому краю



1362

2

16. На что Вы должны рассчитывать при этом дорожном знаке ?

- На затор
- На расширение проезжей части на три полосы движения
- На неожиданное торможение движущихся впереди



1378

3

17. Какие опасности могут возникнуть, если не обратить внимания на этот дорожный знак ?



Транспортное средство может занести и этим может создасться опасность встречному движению

- Может произойти поломка оси или рессоры транспортного средства
- Может быть поврежден груз

1369

2

22. Чего Вы должны избегать при так обозначенном опасном месте ?




- Сильного ускорения
- Неожиданных поворачивающих движений
- Малого расстояния к впереди движущемуся транспортному средству

1373

3

18. На что указывают эти дорожные знаки ?



- На таможню через 100 м
- На запрет въезда через 100 м
- На улицу с односторонним движением длиной 100 м

1428

2

23. Как Вы поступите при виде этого дорожного знака ?



- Переключить на более высокую передачу, чтобы сохранить скорость
- При необходимости переключить на более низкую передачу
- Тормозить, чтобы скорость на этом спуске не была слишком высокой

1367

2

19. Разрешается ли здесь двигаться быстрее, чем 60 км/ч ?



- Да, если проезжая часть мокрая
- Да, если проезжая часть сухая

1434

3

24. В каких направлениях Вы можете продолжать движение ?




- Прямо
- Налево
- Направо

1413

2

20. Как Вы поступите при виде этого дорожного знака ?




Преимущество проезда Вы можете использовать только тогда, когда свободно узкое место

- Несмотря на преимущество проезда, Вы должны рассчитывать на то, что придется остановиться
- Вы должны уступить дорогу встречному транспорту

1466

3

25. Что следует учитывать при виде этого дорожного знака ?



- Транспортным средствам не разрешается здесь встать на стоянку
- Уличное освещение горит не всю ночь
- Транспортные средства могут стоять здесь всю ночь без освещения

1484

2

21. На что указывает этот дорожный знак ?



- На подземный железнодорожный переход
- На железнодорожный переезд без шлагбаума
- На железнодорожный переезд со шлагбаумом

1386

3

26. На что указывает этот дорожный знак ?



- На начало автобана
- На конец автобана
- На начало скоростной дороги

1456

2

27. На что указывает этот дорожный знак ?



- На дорогу с обязательной пошлиной
- На таможенную

1483

2


28. На что могут указывать красно-белые таблички на транспортных средствах ?

- На прицеп, поставленный в населенном пункте на проезжей части
- На сверхширокое транспортное средство
- На транспортное средство с опасным грузом

1488

3

29. Какие запреты отменяются этим дорожным знаком ?




- Запрет обгона
- Ограничение скорости
- Запрещение стоянки

1440

2

30. В каком случае Вы должны ждать перед этим дорожным знаком ?



- Когда железнодорожный служащий машет бело-красно-белым флажком
- Когда приближается рельсовое транспортное средство
- Когда Вы не можете пересечь переезд, не остановившись на нем

1392

3

31. Что разрешается в начинающейся здесь зоне ?




- Стоянка, если установлен указатель времени
- Остановка продолжительностью до 3-х минут
- Остановка для загрузки и разгрузки, а также посадки и высадки

1442

2

32. Какой дорожный знак дает преимущество в движении на ближайшем перекрестке ?



- Дорожный знак 1
- Дорожный знак 2
- Дорожный знак 3

1460

3

33. Вы приближаетесь к остановке, обозначенной таким образом. Как Вы поступите, если увидите там детей ?



- Снизить скорость и быть готовым затормозить
- Уменьшение скорости необходимо только тогда, если там останавливается школьный автобус
- Не обязательно снижать скорость, если автобус останавливается на предназначенном для этого месте

1399

5

34. Что здесь при стоянке следует учитывать ?



- Установленное время на талоне на стоянку не должно превышать
- Талон на стоянку должен быть помещен для контроля на хорошо видимом месте
- Талон на стоянку и указатель времени равнозначны

1470

2

35. На что следует обратить внимание при виде этого дорожного знака ?



- Остановка на дорожной полосе кругового движения запрещена
- При въезде в круговое движение необходимо включить указатель поворота
- Разрешено движение только с шаговой скоростью

1449

3