

Указание к учебной анкете: в поставленных вопросах с напечатанными ответами один или несколько ответов могут быть правильными. Правильные в каждом случае ответы следует отметить крестиком в отведённых для них соответствующих окнах. В вопросах, касающихся чисел или предельных значений, их следует поместить в предназначенные для этого окна.

RUSSISCH

Для заполнения заявителем

Фамилия:	Дата и год рождения:
Имя:	Дата ироведения экзамена:
Автошкола:	
Я заверяю, что на последующие вопросы отвечал сам и без применения вспомогательных средств.	
Подпись:	

Vom Fahrlehrer auszufüllen

Fehlerpunkte/5-Punkte-Regel

Klasse	A1	A	B	C1	C	CE	D1	D	M	L	T	S
Grundstoff												
Zusatzstoff												
Summe												
5-Punkte-Regel *												
bestanden												
nicht bestanden												
Bemerkungen:	geprüft von:											

* mehr als eine Frage mit Wertigkeit 5 falsch beantwortet

Перепечатка и размножение настоящей учебной анкеты или её частей запрещена и влечёт за собой судебную ответственность.

1. Что Вас ожидает при этих дорожных знаках ?

- Строительная площадка, которая заканчивается через 100 м
- Строительная площадка протяженностью в 100 м
- Строительная площадка, которая начинается примерно через 100 м



1377

2

2. Как Вы поступите при виде этого дорожного знака ?

- Наблюдать только приближающиеся справа транспортные средства
- Снизить скорость
- Быть готовым затормозить



1354

3. На что указывает этот дорожный знак ?

- На улицу с односторонним движением
- Что поворачивать запрещено
- На преимущество в движении перед встречным транспортом



1457

2

4. Кому разрешено въехать на таким образом обозначенную улицу ?

- Проживающим на этой улице
- Посетителям проживающих
- Транзитному транспорту



1423

2

5. На что указывает этот дорожный знак ?

- На подземный переход для пешеходов
- На остановку для школьных автобусов
- На пешеходный переход



1382

3

6. Что разрешается этим дорожным знаком ?

- Остановка длительносью до 3-х минут
- Стоянка, если установлен указатель времени
- Остановка для погрузки и разгрузки, а также посадки и высадки



1406

2

7. На что указывает этот дорожный знак ?

- На запрет для пешеходов и автомобилей
- На конец зоны с малым движением



1474

3

8. На что указывает этот дорожный знак ?

- На запрет двигаться быстрее, чем 60 км/ч
- На конец зоны ограничения скорости
- На начало зоны ограничения скорости



1439

2

9. Что разрешается при этом дорожном знаке ?



Пока есть еще свободные другие стояночные места, любой может пользоваться этими стояночными местами

Все жители могут пользоваться каждым из этих стояночных мест

Жители с соответственно пронумерованным разрешением на стоянку могут здесь встать на стоянку

1468

2

10. Какой дорожный знак дает преимущество проезда ?



Дорожный знак 1

Дорожный знак 2

Дорожный знак 3

1461

3

11. На что указывает этот дорожный знак ?



На специальную дорожку для пешеходов

На начало зоны с малым движением

На запрет для велосипедистов и водителей мопедов

1400

2

12. На что следует обратить внимание при виде этого дорожного знака?



При въезде в круговое движение необходимо включить указатель поворота

Участники кругового движения имеют преимущество

При выходе из кругового движения необходимо включить указатель поворота

1450

4

13. На что указывают эти дорожные знаки ?



На запрет обгона, который начинается через 3 км

На запрет обгона на участке протяженностью в 3 км

На проезжую часть с двумя полосами в одном направлении протяженностью 3 км

1437

3

14. Как Вы поступите при виде этого дорожного знака ?



Вы можете продолжать движение только налево

Вам нельзя продолжать движение налево

Вы должны показать изменение в направлении движения влево

1396

2

15. Что Вы должны сделать при виде этого дорожного знака ?



Остановиться только тогда, когда на поперечной дороге появится транспорт

Если нет стоп-линии, остановиться у линии видимости

Остановиться у стоп-линии, а при необходимости вновь остановиться у линии видимости

1394

4

16. Вы проезжаете вне населенного пункта мимо этого дорожного знака. На каком расстоянии следует ожидать опасный участок ?



Между 50 м и 150 м

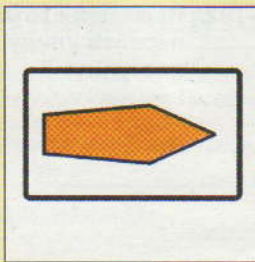
Между 150 м и 250 м

Между 250 м и 350 м

1361

2

17. На что указывает этот дорожный знак ?
 На предписанный объезд для транспортных средств с опасным грузом
 На место, где необходимо выехать с автобана
 На участок автобана, как правило, с малым движением



1487 2

22. На что указывает этот дорожный знак ?

На запрет для велосипедистов
 На велосипедистов, пересекающих проезжую часть
 На велосипедную дорожку



1418 2


18. На что Вы должны рассчитывать при этом дорожном знаке ?
 На движение дорожно-строительных транспортных средств
 На рабочих на проезжей части
 На строительный материал на проезжей части



1376 2


23. На что указывают эти дорожные знаки ?

На запрет остановки, распространяющийся только на грузовые автомобили
 - распространяющийся на проезжую часть и также на обочину
 - распространяющийся только на боковую полосу



1441 3

19. Как Вы должны поступить при виде этого дорожного знака ?
 Вам не разрешается перед знаком повернуть направо
 Вы должны объезжать препятствия с левой стороны
 Вы обязаны повернуть налево



1414 2

24. Что Вы должны учитывать при виде этого дорожного знака ?
 Камни могут лежать на проезжей части
 Движущиеся впереди транспортные средства могут внезапно затормозить
 Избегать остановки и стоянки, так как могут падать камни




1356 3

20. Как Вы поступите в зоне действия этого дорожного знака ?
 Вы можете остановиться
 Вы не должны подвергать опасности входящих и выходящих пассажиров
 Вы можете встать на стоянку



1415 2

25. Какое значение имеет этот дорожный знак ?
 Он указывает на то, как необходимо поставить на стоянку транспортное средство
 Обочина недостаточно укреплена
 Он рекомендует стоянку на обочине




1481 2

21. Что Вы должны принимать во внимание в зоне действия этого знака ?
 Вы можете встать на стоянку
 Вы должны рассчитывать на подъезжающие и отъезжающие такси
 Вы можете остановиться




1417 2

26. На что указывают эти дорожные знаки ?
 На необорудованный шлагбаумом железнодорожный переезд, к которому разрешается подъезжать только со скоростью 10 км/ч
 На необорудованный шлагбаумом железнодорожный переезд, по которому рельсовый транспорт движется только со скоростью 10 км/ч



1240 4

27. На что указывает этот дорожный знак ?



На железнодорожный переезд примерно через 240 м

На железнодорожный переезд примерно через 160 м

На железнодорожный переезд примерно через 80 м

1391

2

28. Как Вы поступите при этом дорожном знаке ?



Сразу уменьшить расстояние к движущимся перед Вами

Двигаться медленно при опасности скольжения

Не совершать резких поворачивающих движений при гололеде

1371

3

29. Как Вы поступите при виде этого дорожного знака ?



Вам не разрешается повернуть налево


Вы должны включить указатель левого поворота

Вы можете продолжать движение только налево

1410

2

30. Как Вы поступите при виде этого дорожного знака ?



Как поворачивающий направо, Вы не обязаны ждать

Подъехать осторожно и на умеренной скорости

Уступить дорогу

1393

4

31. Что Вам говорит этот дорожный знак ?



Не разрешается двигаться быстрее, чем 60 км/ч

Скорость в 60 км/ч в любом случае не вызывает сомнений

Рекомендуемая минимальная скорость составляет 60 км/ч

1430

3

32. Пешеходы хотят перейти улицу. Как Вы поступите ?



Можно обгонять, пока еще ни один пешеход не находится на проезжей части

Приблизиться на умеренной скорости к пешеходному переходу и, если необходимо, подождать

На пешеходном переходе не обгонять

1477

4

33. Что Вы должны принимать во внимание при этом дорожном знаке ?



Дорога ведет к берегу


В темное время суток или при плохой видимости может возникнуть опасность спутать поверхность воды с проезжей частью

Въезд и выезд для плавающих транспортных средств не должен загромождаться

1380

2

34. Что следует принимать во внимание при этих дорожных знаках ?



Если Вы продолжаете движение по главной улице, Вы должны включить левый сигнал поворота

Направление движения налево предписано

Если Вы продолжаете движение по главной улице, Вы должны обратить внимание на пешеходов, если необходимо, ждать

1464

4

35. Как Вы поступите при виде этого знака ?



Вы должны уступить дорогу встречному транспорту

Вам не разрешается поворачивать

Вы имеете преимущество перед встречным транспортом

1409

3